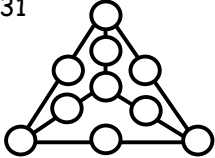
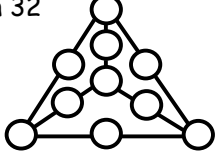
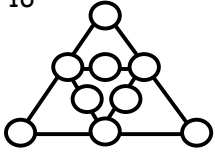
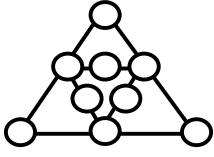
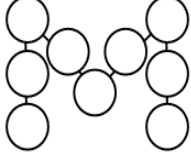
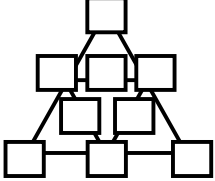
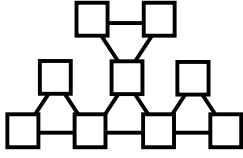

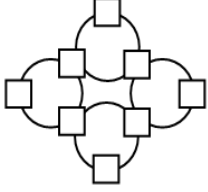
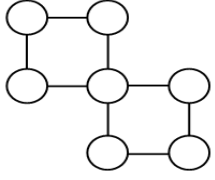
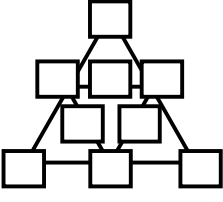
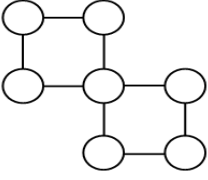


FIGURAS MÁGICAS

| | | |
|--|---|---|
| <p>Ubica los números del 1 al 10 de modo que los 3 triángulos laterales sumen 31</p>  | <p>Ubica los números del 1 al 10 de modo que los 3 triángulos laterales sumen 32</p>  | <p>Ubica los números del 1 al 9 de modo que 3 casillas conectadas en línea recta sumen 16</p>  |
| <p>Ubica los números del 1 al 9 de modo que 3 casillas conectadas en línea recta sumen 18</p>  | <p>Coloca los números del 1 al 9 de modo que cada línea sume 16.</p>  | <p>Coloca los números del 1 al 9 de modo que cada línea sume 14.</p>  |
| <p>Coloca los números del 2 al 10 de modo que cada triángulo sume 18.</p>  | <p>Coloca los números 0, 1, 2, 3, 4, 5 de modo que cada circunferencia sume 10.</p>  | <p>Coloca los números del 1 al 8 de modo que cada circunferencia sume 13</p>  |
| <p>Coloca los números del 1 al 7 de modo que cada cuadrado sume 15.</p>  | <p>Coloca los números del 1 al 9 de modo que cada línea sume 12.</p>  | <p>Coloca los números del 1 al 7 de modo que cada cuadrado sume 17.</p>  |

SOLUCIONES

| | | |
|--|--|--|
| | | |
| | | |
| | | |
| | | |

Por: Armando Solano Samaniego