

.....  
lados: .....

## LAS SEÑALES

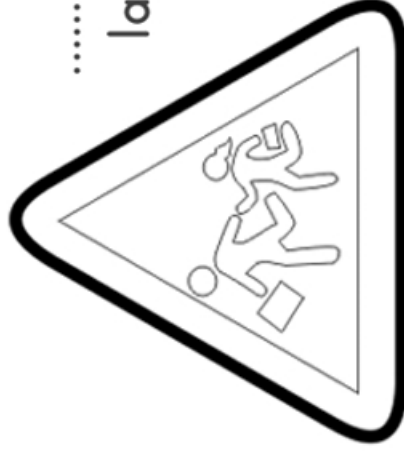
¿Qué forma tiene cada señal?

¿Cuántos lados tiene cada una?

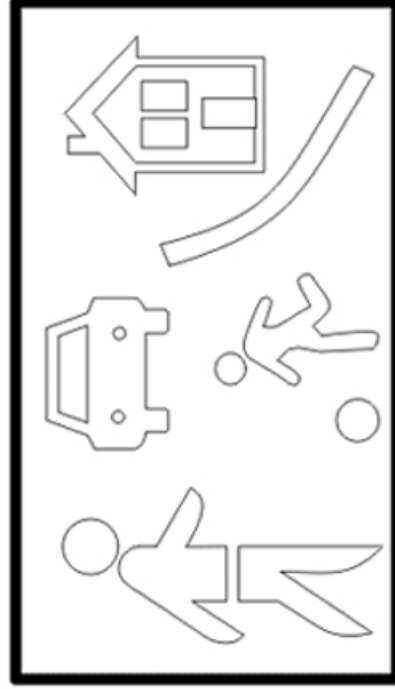
Escribe las respuestas debajo de las figuras.




.....  
lados: .....



.....  
lados: .....



.....  
lados: .....



.....  
lados: .....