


# SUMAS Y RESTAS



Nombre: \_\_\_\_\_

Fecha: \_\_\_\_\_



Calcula mentalmente y escribe los resultados en los recuadros.

TENGO ESTOS GRANOS DE TRIGO

Plumas

Alitas

Pico





30


16

14


¿Cuánto grano tiene cada pareja?









¿Cuánto grano más tiene el primero de cada pareja?









¿Cuánto grano tienen en total?


¿Cuánto grano más tienen "Plumas y Alitas"?


¿Cuánto grano más tiene "Plumas y Pico"?

¿Cuánto grano más tiene "Alitas y Pico"?













TENGO ESTOS TORNILLOS DE ACERO

Manitas

Pinzas

Patitas





45

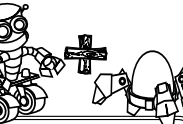
34

26


¿Cuántos tornillos tiene cada pareja?









¿Cuántos tornillos más tiene el primero de cada pareja?







¿Cuántos tornillos tienen en total?

¿Cuántos tornillos más tienen "Manitas y Pinzas"?

¿Cuántos tornillos más tiene "Manitas y Patitas"?

¿Cuántos tornillos más tiene "Pinzas y Patitas"?

