

Pepe tiene una alcancía en la cuál tiene su ahorro, cada semana su papá le da \$ 19, ¿Si con esta van 6 semanas, cuánto dinero tiene en total?

Rojo




El autobús escolar tiene 12 asientos dobles, en ocasiones se llena, en otros días sólo suben 20 niños. ¿Cuántos niños caben en total?

Rojo




La Sra. Jacinta tiene un huerto con 35 árboles de mangos, en otro lado del terreno hay 25 ciruelos y por último tiene 21 plantas con flores diferentes ¿Cuántos **árboles** tiene en total?

Azul



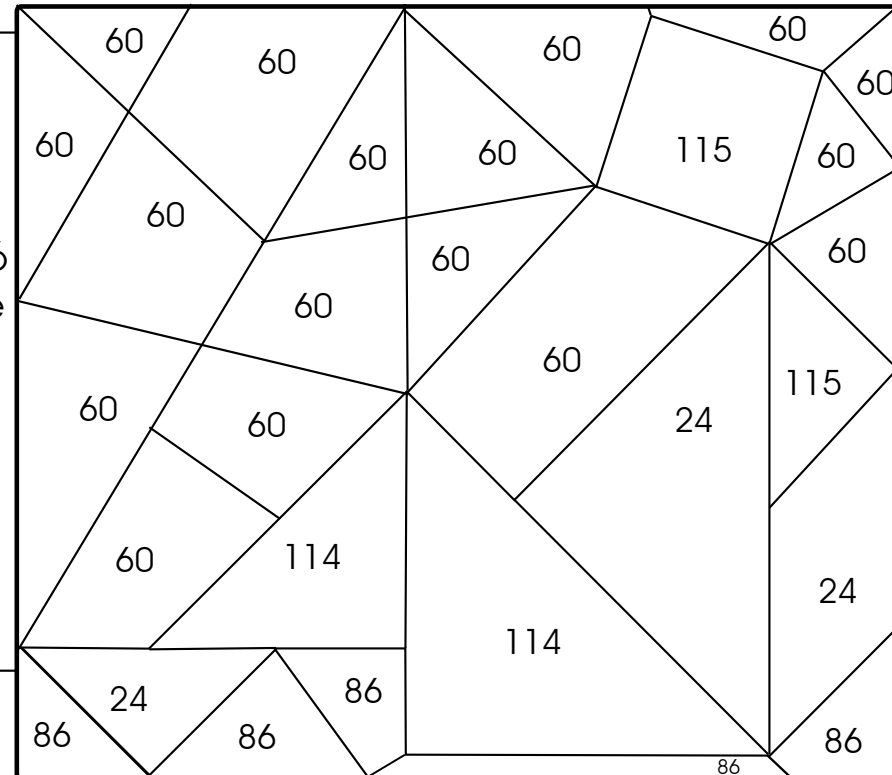
Javier perdió una caja con estampas, recuerda que en el mes de octubre llegó a tener 180 estampas, pero perdió en el mes de noviembre 65 ¿Cuántas estampas tenía en total antes de perderlas?

Rojo



Don Mauricio tiene una tienda de juguetes, el sábado le vendió a Toño un carro de \$25, un avión de \$48 y unos lentes de \$41 ¿Cuánto dinero le sobró a toño si pagó con un billete de \$200?

Verde



PROBLEMAS DE MATEMÁTICAS

Resuelve los problemas y con los resultados colorea el dibujo oculto.
Lee muy bien para que puedas comprender y contestar.

MAESTRO JESÚS GONZÁLEZ MOLINA
gonzalez_molina79@hotmail.com