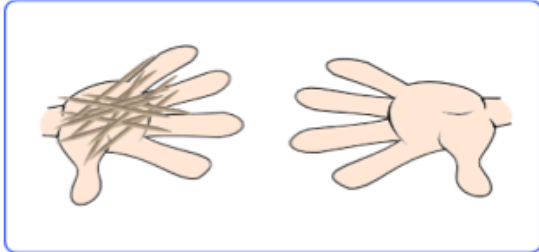
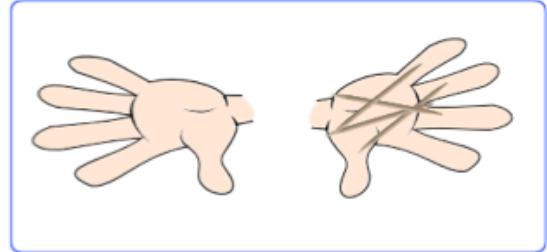


1.- Sabemos estimar


Rodea la mano que tiene muchos palillos.
Tacha la mano que no tiene ninguno.



Rodea la mano con algunos palillos.
Tacha la que no tiene ninguno.



2.- Pinta de rojo el grande, de verde el mediano y de azul y pequeño



3.- Completa las series

| | | | | |
|--|--|--|--|--|
| | | | | |
| | | | | |

4.- Escribe el anterior y el posterior.

| | | | | | | |
|--|--------|--|--|--|-------|--|
| | ← 14 → | | | | ← 7 → | |
|--|--------|--|--|--|-------|--|

5.- Indica la cifra de las decenas y de las unidades en los siguientes números

| | | | |
|-------------------------|-------------------------|------------------------|-------------------------|
| 28 = ___ D ___ U | 15 = ___ D ___ U | 8 = ___ D ___ U | 20 = ___ D ___ U |
|-------------------------|-------------------------|------------------------|-------------------------|

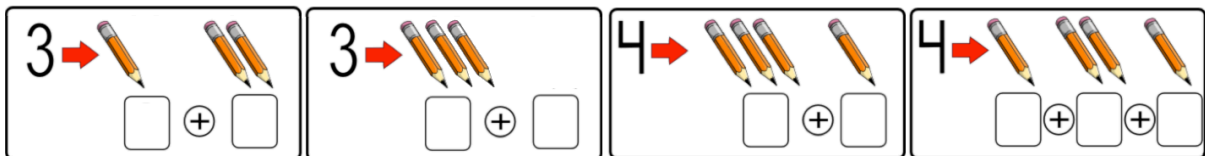
6.- Descompón de cuatro formas distintas los números de las casitas.



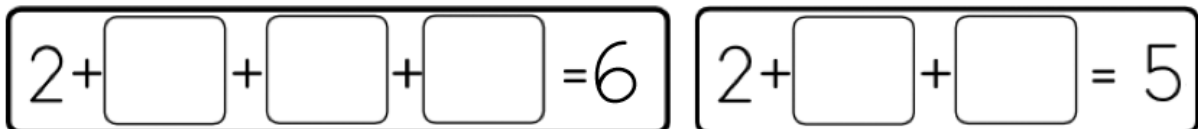
7.- Rodea las operaciones que sumen 10 (Amigos del 10)

6 + 4 7 + 5 3 + 7 4 + 4 5 + 10 2 + 8

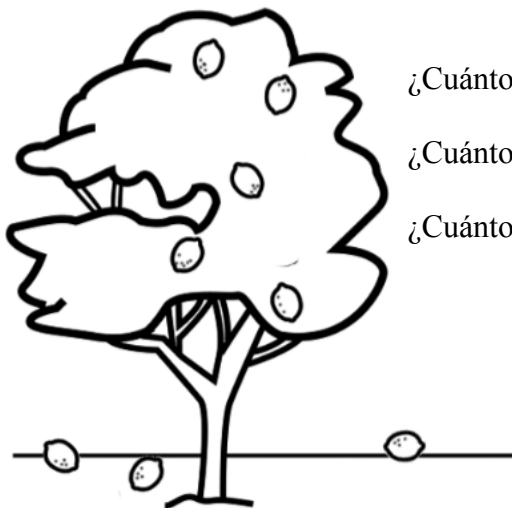
8.- Completa las sumas



9.- Dibuja la cantidad que falta. Puedes usar números o palillos.



10.- Mira el dibujo y responde.



¿Cuántos limones hay en el árbol? _____

¿Cuántos limones se han caído? _____

¿Cuántos había en el árbol antes de caerse los del suelo? _____