

1.- Tengo 6 canicas y Guillermo me gana 3 canicas.

¿
? ?


Tengo que: juntar

quitar

Para ello: sumo

resto

$$\square \cdot \square = \square$$



Respuesta: _____

2.- Tengo una caja con 9 colores y Rocio me pierde cinco. ¿
? ?


Tengo que: juntar

quitar

Para ello: sumo

resto

$$\square \cdot \square = \square$$



Respuesta: _____

3.- En mi clase hay 9 niñas y 7 niños. ¿

?


Tengo que: juntar

quitar

Para ello: sumo

resto

● =



Respuesta:

4.- Elba tiene 8 años y su hermana es 3 años mayor.


?

Tengo que: juntar

quitar

Para ello: sumo

resto



● =

Respuesta:

5.- Nos vamos de excursión en dos autobuses, uno con 10 niños y otro con 7 niños. ¿


?

Tengo que: juntar

quitar

Para ello: sumo

resto



$$\square \cdot \square = \square$$

Respuesta:

.....

.....

.....

.....

6.- Claudia ha comprado un lápiz por 80 céntimos y una goma por 40 céntimos. $\frac{?}{?}$

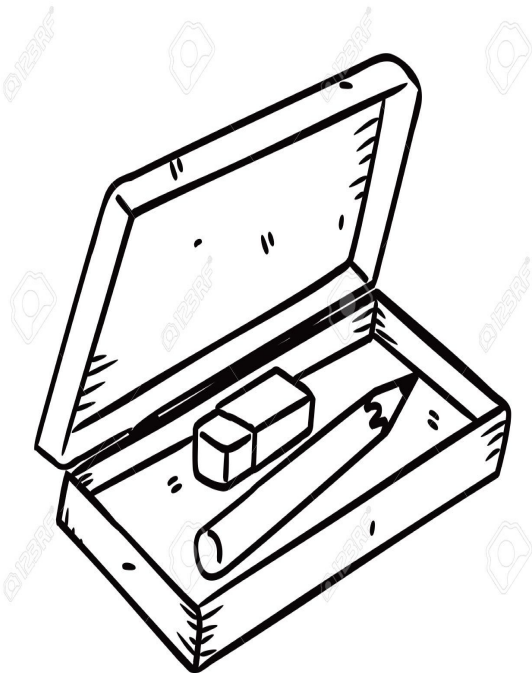
_____?

Tengo que: juntar

quitar


Para ello: sumo

resto



$$\square \bullet \square = \square$$

Respuesta: _____



Hasta muy pronto amigos!