

¿ QUÉ COME CADA UNO ?

Une cada unidad y decena con su número correspondiente y sabrás que come cada uno.



1 decena y 9 unidades



1 decena y 6 unidades



14



1 decena y 1 unidad



19



1 decena y 4 unidades



16




1 decena y 7 unidades



11



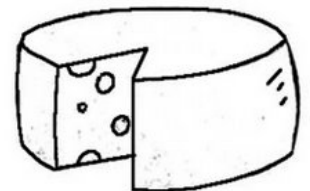
17




1 decena y 8 unidades



18



13



1 decena y 0 unidades



1 decena y 3 unidades



10