


ESTIMACIONES CON EL PESO

Indica que usarías para pesar los siguientes objetos: gramos o kilogramos



Rodea la estimación que se aproxime más al peso de los siguientes objetos



2 gramos o 2 Kilogramos




350 Kilos o 350 gramos



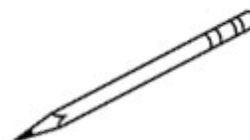
1795 Kilos o 1795 gramos



8 Kilogramos u 8 gramos



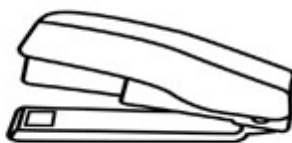
18 Kg o 18 gramos



6 Kilos o 6 gramos



9 gramos o 9 Kilogramos



105 Kilos o 105 gramos



40 Kilos o 40 gramos