


ÁNGULOS

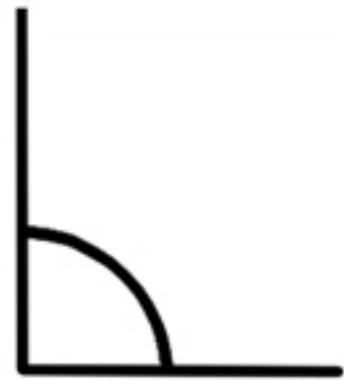
Ayuda a este señor que está buscando en su taller 15 objetos con ángulos rectos, agudos y obtusos (5 de cada). Rodea de rojo los rectos, de azul los agudos y de verde los obtusos. Ten en cuenta que los lados deben ser rectos para formar ángulos.

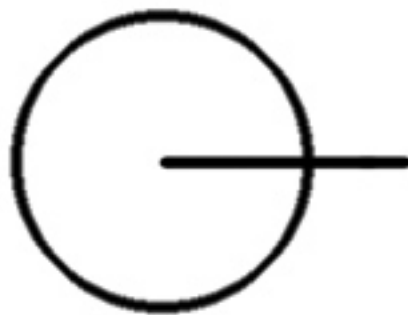


ÁNGULOS

Busca en esta sopa de letras el nombre de estos ocho ángulos, clasificados por la amplitud de su abertura y por su posición. Ponle el nombre a todos en el letrero que hay debajo de cada uno.









V	D	Q	U	Q	O	E	A	Q	S	G	S	I	J	Z
J	N	H	T	W	Z	Q	A	J	W	O	Q	A	Q	N
R	A	K	I	E	X	K	H	O	V	F	K	A	O	B
Q	H	D	Z	A	F	H	V	I	G	N	Q	N	J	N
U	U	M	Y	R	H	P	T	W	D	X	B	O	T	D
M	J	S	R	A	G	U	D	O	X	L	W	H	X	Z
Z	D	I	F	W	C	V	T	D	E	A	L	G	M	D
D	P	J	D	E	J	E	J	X	L	J	D	C	F	R
I	R	J	S	L	L	A	N	O	C	R	G	S	U	R
I	B	N	O	P	U	E	S	T	O	S	U	T	B	O
R	O	P	M	Z	A	D	L	A	E	K	U	O	Y	G
C	T	O	U	A	E	S	Z	V	T	S	K	S	O	X
F	C	C	A	C	A	L	L	O	U	K	A	Q	C	V
U	E	E	C	L	P	I	L	E	G	A	V	E	H	F
M	R	R	P	V	D	O	N	L	E	U	B	T	A	F









