




CARRERA DE

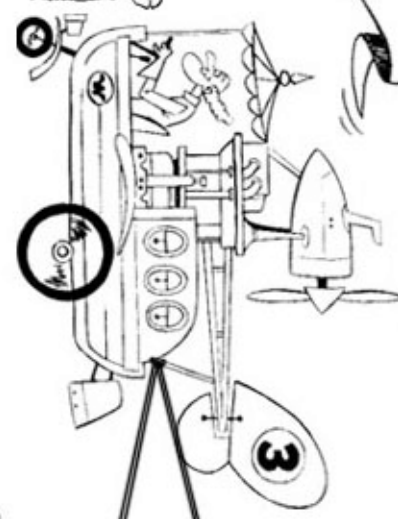
Averigua quién llegó primero. Para ello haz las sumas y apunta en la copa el número del coche que cumple las condiciones que hay en el cartel junto a ella.

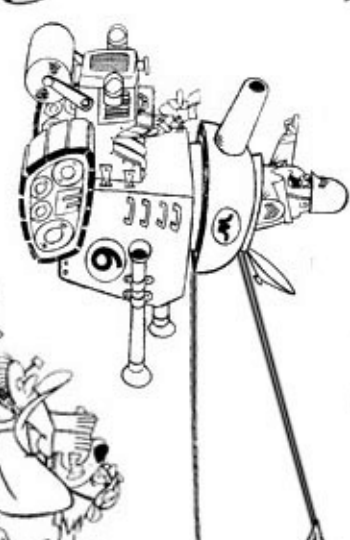
SUMAS

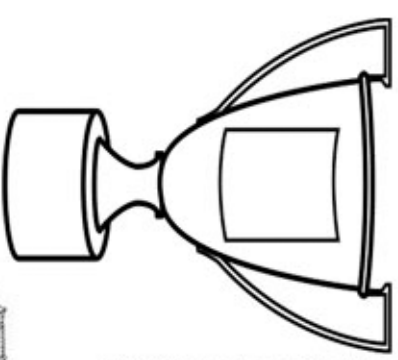

$$\begin{array}{r} 45 \\ 33 \\ + 47 \\ \hline \end{array}$$


$$\begin{array}{r} 50 \\ 76 \\ + 51 \\ \hline \end{array}$$



$$\begin{array}{r} 98 \\ 21 \\ + 70 \\ \hline \end{array}$$



$$\begin{array}{r} 95 \\ 28 \\ + 94 \\ \hline \end{array}$$

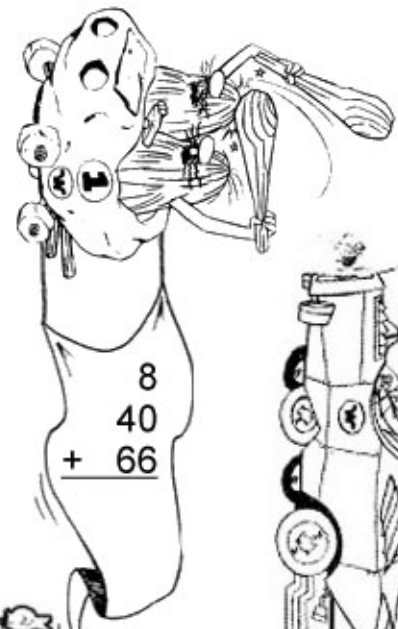

$$\begin{array}{r} 68 \\ 99 \\ + 45 \\ \hline \end{array}$$





El ganador tiene:
- El mismo número en las unidades y en las decenas.
- La centena es mayor de uno.


$$\begin{array}{r} 79 \\ 85 \\ + 67 \\ \hline \end{array}$$


$$\begin{array}{r} 87 \\ 48 \\ + 76 \\ \hline \end{array}$$


$$\begin{array}{r} 8 \\ 40 \\ + 66 \\ \hline \end{array}$$


$$\begin{array}{r} 77 \\ 30 \\ + 6 \\ \hline \end{array}$$


$$\begin{array}{r} 71 \\ 71 \\ + 98 \\ \hline \end{array}$$