


# CARRERA DE FORMULA X

(Multiplicaciones por 2-3-4-5)

## EQUIPOS




El equipo de las tuercas compite contra el de los tornillos. ¿Cual ganara la carrera?. Para averrigrarlo haz la multiplicaciones y luego cuenta cual de los dos tiene más resultados con centenas.




$$\begin{array}{r} 23 \\ \times 4 \\ \hline \end{array}$$




$$\begin{array}{r} 21 \\ \times 4 \\ \hline \end{array}$$



$$\begin{array}{r} 20 \\ \times 5 \\ \hline \end{array}$$




$$\begin{array}{r} 19 \\ \times 4 \\ \hline \end{array}$$



$$\begin{array}{r} 30 \\ \times 5 \\ \hline \end{array}$$




$$\begin{array}{r} 24 \\ \times 4 \\ \hline \end{array}$$



$$\begin{array}{r} 30 \\ \times 2 \\ \hline \end{array}$$



$$\begin{array}{r} 29 \\ \times 4 \\ \hline \end{array}$$




$$\begin{array}{r} 25 \\ \times 2 \\ \hline \end{array}$$




$$\begin{array}{r} 12 \\ \times 4 \\ \hline \end{array}$$




$$\begin{array}{r} 27 \\ \times 3 \\ \hline \end{array}$$




$$\begin{array}{r} 22 \\ \times 5 \\ \hline \end{array}$$



$$\begin{array}{r} 18 \\ \times 5 \\ \hline \end{array}$$




$$\begin{array}{r} 11 \\ \times 4 \\ \hline \end{array}$$




$$\begin{array}{r} 17 \\ \times 3 \\ \hline \end{array}$$




$$\begin{array}{r} 17 \\ \times 2 \\ \hline \end{array}$$





$$\begin{array}{r} 27 \\ \times 3 \\ \hline \end{array}$$




$$\begin{array}{r} 29 \\ \times 2 \\ \hline \end{array}$$



$$\begin{array}{r} 19 \\ \times 3 \\ \hline \end{array}$$


$$\begin{array}{r} 10 \\ \times 2 \\ \hline \end{array}$$



$$\begin{array}{r} 17 \\ \times 4 \\ \hline \end{array}$$



$$\begin{array}{r} 23 \\ \times 3 \\ \hline \end{array}$$



$$\begin{array}{r} 15 \\ \times 5 \\ \hline \end{array}$$



$$\begin{array}{r} 27 \\ \times 2 \\ \hline \end{array}$$

