

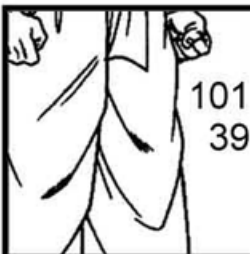

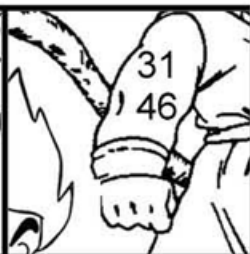











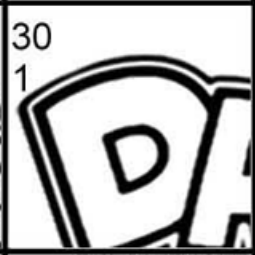


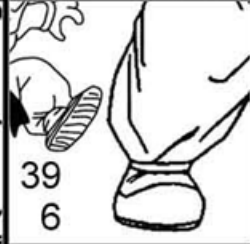


# DIVISIÓN ENTERA

Los resultados los tienes que buscar teniendo en cuenta que el número superior es el cociente y el inferior el resto de la división

www.actiludis.com



1.261   42	4.492   12	1.246   30	4.487   14	3.296   58
6.130   26	8.268   36	8.633   72	278   58	353   94
2.881   46	4.699   79	1.658   52	7.097   23	5.998   59
3.413   80	9.707   55	1.254   32	741   56	5.815   3

 101 39	 308 13	 31 46	 56 48	 320 7
 3 71	 4 46	 119 65	 1938 1	 13 13
 59 38	 62 29	 41 16	 374 4	 30 1
 229 24	 235 20	 39 6	 176 27	 42 53

Resuélvese las siguientes operaciones y pega la pieza según el resultado. Si no está el número es porque te has equivocado, vuélvese a intentar y al final colorea el dibujo que te haya salido.