












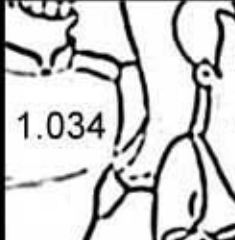
CÁLCULO

Sumas y restas llevando, multiplicación y división

www.aciludis.com



$\begin{array}{r} 4.852 \\ + 2.463 \\ \hline \end{array}$	$\begin{array}{r} 3.134 \\ + 4.233 \\ \hline \end{array}$	$\begin{array}{r} 6.698 \\ + 1.349 \\ \hline \end{array}$	$\begin{array}{r} 5.851 \\ + 5.131 \\ \hline \end{array}$
$\begin{array}{r} 8.984 \\ - 6.534 \\ \hline \end{array}$	$\begin{array}{r} 6.645 \\ - 5.611 \\ \hline \end{array}$	$\begin{array}{r} 3.195 \\ - 1.903 \\ \hline \end{array}$	$\begin{array}{r} 5.586 \\ - 4.041 \\ \hline \end{array}$
$\begin{array}{r} 3.245 \\ \times 2.644 \\ \hline \end{array}$	$\begin{array}{r} 7.819 \\ \times 177 \\ \hline \end{array}$	$\begin{array}{r} 7.993 \\ \times 7.875 \\ \hline \end{array}$	$\begin{array}{r} 6.195 \\ \times 8.722 \\ \hline \end{array}$
7.587 84	8.960 8	7.031 36	5.342 5

7.315	10.982	 8.579.780	 54.032.790
 C: 90 R: 27	 C: 1068 R: 2	 2.450	 1.545
8.047	7.367	 62.944.875	 1.383.963
 C: 195 R: 11	 C: 1120 R: 0	 1.292	 1.034

Resuélvete las siguientes operaciones y pega la pieza según el resultado. Si no está el número es porque te has equivocado, vuelve a intentarlo y al final colorea el dibujo que te haya salido.