

CONTAMOS

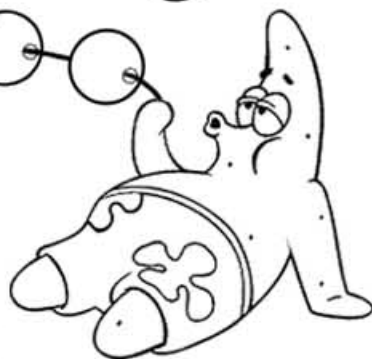
Bob Esponja, Calmardo, Arenita y Patricio tienen una cantidad distinta de bolas y todos quieren más. ¿Cuántas bolas tendrán al final cada uno?

Puedes ayudarte pintando primero las bolas que te dicen que quieren y luego cuenta desde las bolas que ya tienes.

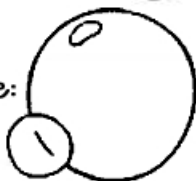
Tengo 4 bolas y quiero 6 más



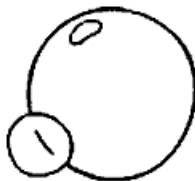
Tengo 2 bolas y quiero 7 más



Bob Esponja tiene:



Patricio tiene:



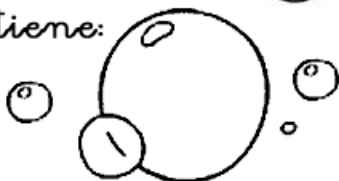
Tengo 5 bolas y quiero 3 más



Tengo 3 bolas y quiero 8 más



Estrellita tiene:



Calmardo tiene:

