





Averigua el número del saco partiendo del que aparece en el sombrero pirata y contando según las claves que tienes en esta tabla.

Cuenta	Adelante	Atrás
De 1 en 1		—
De 10 en 10	○	⊖
De 100 en 100	△	△


82  △ ○ |||| ○ || △ △ △ — ○ ||| ○

103  ○ ||| △ — ○ ○ ○ || △ |||| ○ △

234  || ○ △ △ || ○ △ △ △ ○ |||||

156  ○ ○ |||| ⊖ || ○ △ ○ — ⊖ ||| ○

405  △ ||| ○ ○ ○ ○ △ || ⊖ ||| ⊖ ○

528  || ○ △ △ △ ○ ○ ⊖ ○ ○ |||| △