



Nombre: \_\_\_\_\_



Fecha: \_\_\_\_\_

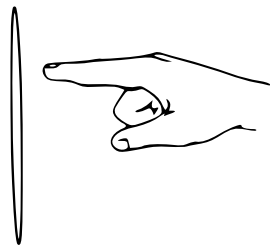


# Números de dos o tres cifras

Todos los números de dos cifras tienen decenas y unidades, las decenas son los montoncitos de a 10 amarrados con las ligas y las unidades son los que quedan sueltos.

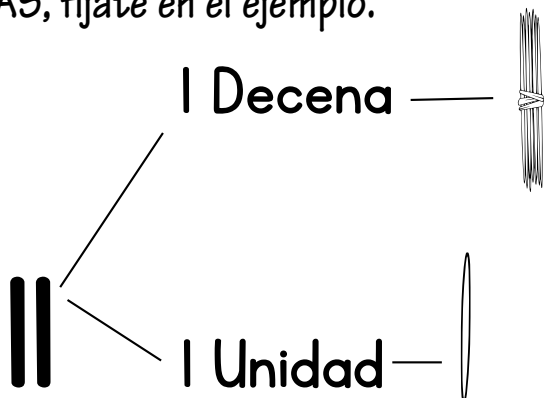


Este montoncito vale 10 y es 1 decena, que quiere decir 1 de 10, o 1 que tiene 10.

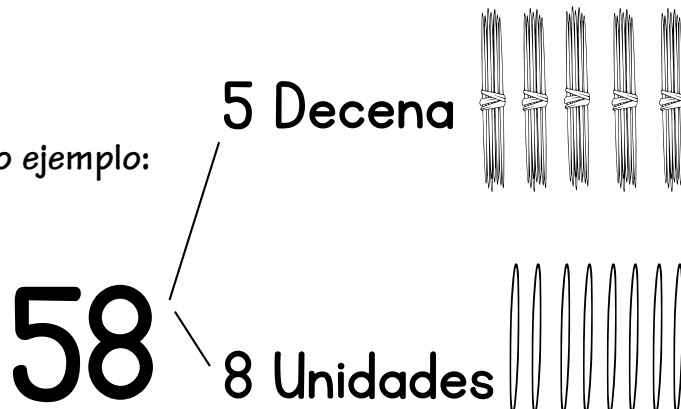


En cambio este palillo está solo y es una UNIDAD que es uno o unos sueltos.

Entonces el número 11 al descomponerlo tendríamos 1 DECENA más 1 UNIDAD, o 11 UNIDADES SUELTAS, fíjate en el ejemplo.



Otro ejemplo:



Colorea todos los globos cuyos números terminen con 5 unidades, con azul los que inicien entre 2 y 6 decenas.

61	15	20	45	73	14	55	91
35	41	62	25	85	17	46	95

Ordena de menor a mayor los números de los globos: \_\_\_\_\_