

NOMBRE:

TAREA 5/5/2011

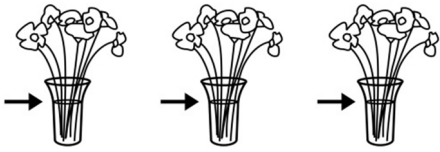
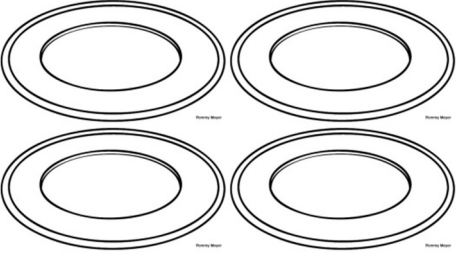
1. Cálculo mental

- a) $30 + 50 =$
- b) $65 + 20 =$
- c) $40 + 38 =$
- d) $120 + 7 =$
- e) $260 + 9 =$
- f) $150 + 40 =$
- g) $638 + 50 =$
- h) $531 + 60 =$
- i) $60 - 30 =$
- j) $90 - 50 =$
- k) $67 - 7 =$
- l) $69 - 20 =$
- m) $170 - 70 =$
- n) $140 - 30 =$
- ñ) $225 - 25 =$
- o) $342 - 42 =$
- p) $349 - 49 =$
- q) $741 - 41 =$
- r) $884 - 4 =$
- s) $98 + 100 =$
- t) $43 + 300 =$
- u) $73 + 200 =$
- w) $400 + 54 =$
- x) $600 + 16 =$

2. Expresa las siguientes sumas en forma de multiplicación. Señala las dos formas.

$2+2+2+2+2+2+2+2+2+2+2$	
$7+7+7+7+7+7$	
$5+5+5+5+5+5+5+5+5+5+5+5+5+5+5$	
$12+12+12+12+12+12+12+12+12$	
$9+9+9+9$	


3. Indica cuándo podemos hacer una multiplicación y cómo se expresa.

	En cada jarrón hay 7 flores. ¿Cuántas flores hay en los 3 jarrones?
	En cada plato hay 4 albóndigas. ¿Cuántas albóndigas hay en los cuatro platos?


4. Relaciona cada multiplicación con un dibujo.



$3 \times 5 / 5 \times 3$



$6 \times 5 / 5 \times 6$



$4 \times 3 / 3 \times 4$

5. Descompón los siguientes números.

a) $243 = 200 + 40 + 3$

b) $376 =$

c) $210 =$

d) $409 =$

6. Mireya tiene 56 caramelos de fresa. Su madre le ha comprado 345 caramelos de naranja y su hermano le regala 92 de limón. ¿Cuántos caramelos tiene Mireya en total?

Mireya tiene caramelos en total.

7. Manuel tenía 269 cromos en una caja. En el recreo del colegio pierde 194 cromos. ¿Cuántos cromos le queda?

A Manuel le quedan cromos.