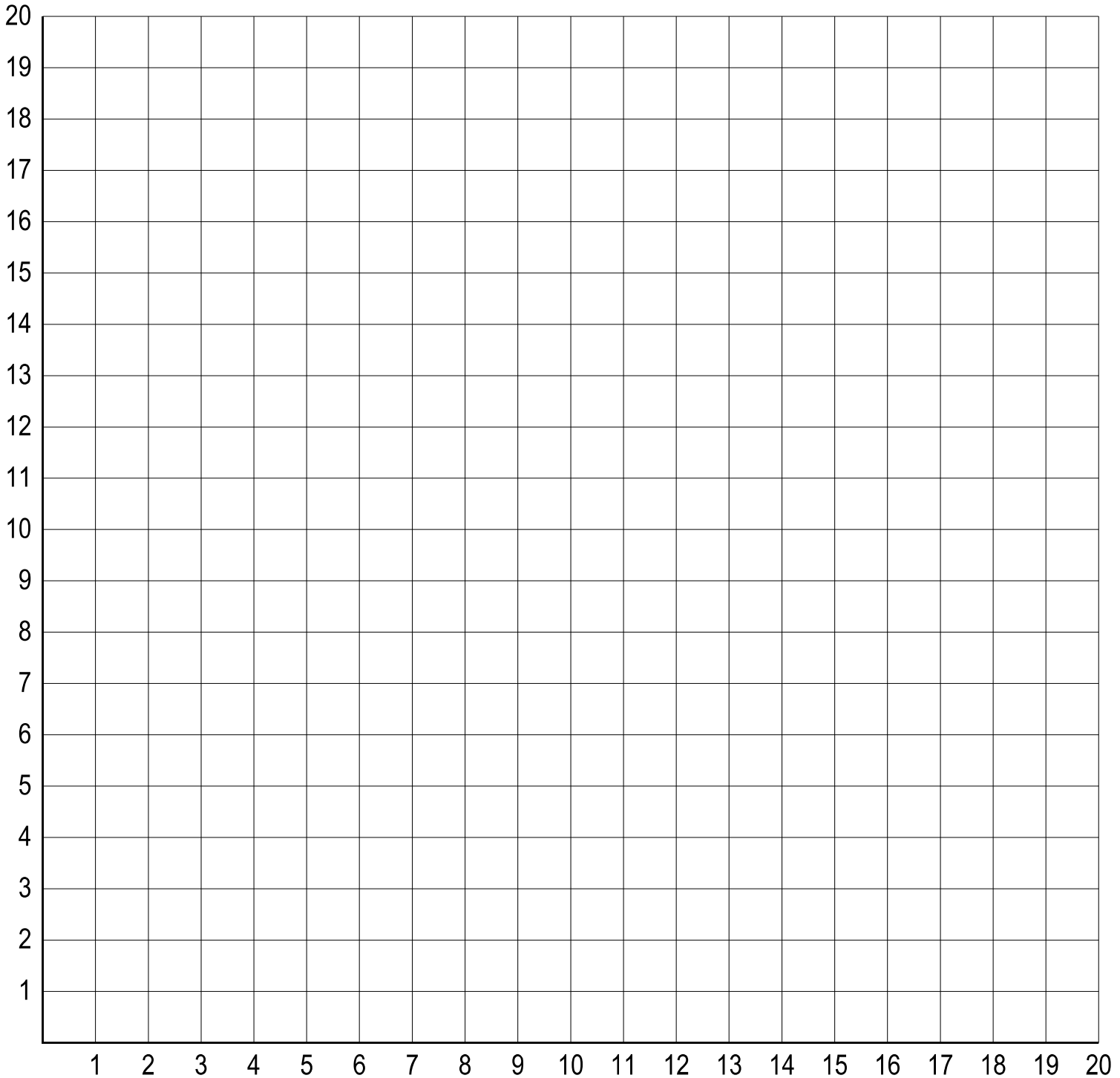
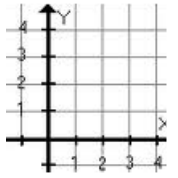
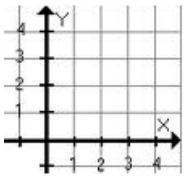


# TRABAJAR CON COORDENADAS

Representa y une los puntos que se indican con el signo más (+)  
con color rojo y obtendrás un mensaje.

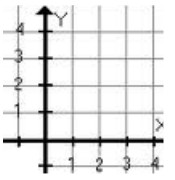


- $(13,13) + (13,17); (12,17) + (14,17); (12,13) + (14,13); (9,17) + (9,13) + (11,13); (15,17) + (17,17) + (15,13) + (17,13);$   
 $(15,3) + (15,7) + (17,7) + (17,3) + (15,3); (5,3) + (3,3) + (3,7) + (5,7); (12,12) + (13,18) + (14,12); (6,7) + (6,3) + (8,3) + (8,7);$   
 $(3,8) + (3,12) + (5,8) + (5,12); (6,12) + (6,8) + (8,8) + (8,12); (11,8) + (9,8) + (9,12) + (11,12);$   
 $(9,3) + (9,7) + (11,7) + (11,5) + (9,5); (8,13) + (6,13) + (6,17) + (8,17); (3,13) + (3,17) + (5,17);$   
 $(15,8) + (15,12) + (17,12) + (17,18) + (15,8); (12,3) + (14,3) + (14,5) + (12,5) + (12,7) + (14,7); (6,15) + (7,15);$   
 $(3,15) + (4,15); (10,5) + (11,3); (9,10) + (10,10)$



# TRABAJAR CON COORDENADAS

Representa y une los puntos que se indican con el signo más (+) con color rojo y obtendrás un mensaje.



## SOLUCIÓN

