
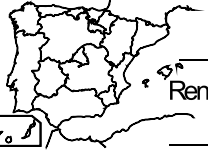












Alumno/a: Curso:

RIQUEZA DE LAS COMUNIDADES AUTONOMAS

Sitúa las distintas Comunidades Autónomas de España en el mapa mudo. Para ello debes calcular las divisiones y el resto, según la clave, te dará la Capital. El cociente te dirá su renta per cápita en euros (€). Escribe en el mapa de la Comunidad los ordinales del 1ª al 12ª, siendo la 1ª la Comunidad con más renta y 12ª la de menor renta per cápita.

 <p>Capital _____ Renta per cápita _____ €</p> <p>Comunidad _____</p> <p>: 79</p> <p>2384069</p> <p>R =</p>	 <p>Capital _____ Renta per cápita _____ €</p> <p>Comunidad _____</p> <p>: 94</p> <p>1506633</p> <p>R =</p>	 <p>Capital _____ Renta per cápita _____ €</p> <p>Comunidad _____</p> <p>: 74</p> <p>1652282</p> <p>R =</p>	 <p>Capital _____ Renta per cápita _____ €</p> <p>Comunidad _____</p> <p>: 93</p> <p>2361925</p> <p>R =</p>
 <p>Capital _____ Renta per cápita _____ €</p> <p>Comunidad _____</p> <p>: 54</p> <p>1586253</p> <p>R =</p>	 <p>Capital _____ Renta per cápita _____ €</p> <p>Comunidad _____</p> <p>: 87</p> <p>1517549</p> <p>R =</p>	 <p>Capital _____ Renta per cápita _____ €</p> <p>Comunidad _____</p> <p>: 48</p> <p>1281461</p> <p>R =</p>	 <p>Capital _____ Renta per cápita _____ €</p> <p>Comunidad _____</p> <p>: 68</p> <p>1521441</p> <p>R =</p>
 <p>Capital _____ Renta per cápita _____ €</p> <p>Comunidad _____</p> <p>: 96</p> <p>1989708</p> <p>R =</p>	 <p>Capital _____ Renta per cápita _____ €</p> <p>Comunidad _____</p> <p>: 65</p> <p>1899371</p> <p>R =</p>	 <p>Capital _____ Renta per cápita _____ €</p> <p>Comunidad _____</p> <p>: 85</p> <p>1827077</p> <p>R =</p>	 <p>Capital _____ Renta per cápita _____ €</p> <p>Comunidad _____</p> <p>: 39</p> <p>9433383</p> <p>R =</p>

Si el resto de las divisiones te da (R) la capital de la Comunidad es:

- | | | | | | |
|--------------|--------------|-----------------|-----------------|----------------|------------------------------|
| R 1. Mérida | R 2. Oviedo | R 3. Madrid | R 4. Zaragoza | R 5. Barcelona | R 6. Palma de Mallorca |
| R 7. Vitoria | R 8. Sevilla | R 9. Valladolid | R 10. Santander | R 11. Pamplona | R 12. Santiago de Compostela |