

ACTIVIDADES DE NUMERACION DEL 100 AL 199

1.- Escribe del 100 al 130

Continúa la serie en tu cuaderno 100 - 101 - 102 -

2.- Escribe hacia atrás del 150 al 120

Continúa la serie en tu cuaderno 150 - 149 - 148 -

3.- Escribe de 2 en 2 desde el 140 al 170

Continúa la serie 140 - 142 -

Y hacia atrás de 2 en 2 desde el 200 al 170

Continúa la serie 200 - 198 -

4.- Escribe de 3 en 3 desde el 100 al 130

Continúa la serie 100 - 103 -

Y de 3 en 3 desde el 131 al 161

Continúa la serie 131 - 134 -

5.- Escribe de 5 en 5 desde el 130 al 160

Continúa la serie 130 - 135 -

Y hacia atrás de 5 en 5 desde el 190 al 160

Continúa la serie 190 - 185 -

6.- Escribe el nombre de los siguientes números:

100 - 104 - 109 - 116 - 123 - 138 - 140 - 151 - 167 - 182 - 195

7.- Ordena de mayor a menor

108 - 134 - 199 - 110 - 127 - 131 - 144 - 161 - 147 - 132 - 105

8.- Ordena de menor a mayor

128 - 142 - 109 - 160 - 187 - 139 - 194 - 162 - 143 - 152 - 123

9.- Escribir el anterior y posterior de los siguientes números:

	120	
--	-----	--

	150	
--	-----	--

	180	
--	-----	--

	139	
--	-----	--

	141	
--	-----	--

	100	
--	-----	--

10.- Escribir mayor (>) o menor (<)

130		103
-----	--	-----

155		173
-----	--	-----

170		158
-----	--	-----

142		162
-----	--	-----

180		149
-----	--	-----

122		190
-----	--	-----

11.- Descompón en centenas, decenas y unidades, de 5 formas distintas, los siguientes números:

139 - 148 - 109 - 155 - 182 - 176

Ejemplos con el 139:


1 C 3 D y 9 U

1 C y 39 U

13 D y 9 U

12 D y 19 U

10 D y 39 U



ACTIVIDADES DE NUMERACION

DEL 200 AL 299

1.- Escribe del 200 al 240

Continúa la serie en tu cuaderno 200 - 201 - 202 -

2.- Escribe hacia atrás del 250 al 210

Continúa la serie en tu cuaderno 250 - 249 - 248 -

3.- Escribe de 2 en 2 desde el 220 al 260

Continúa la serie 220 - 222 -

Y hacia atrás de 2 en 2 desde el 300 al 260

Continúa la serie 300 - 298 -

4.- Escribe de 3 en 3 desde el 200 al 230

Continúa la serie 200 - 203 -

Y de 3 en 3 desde el 231 al 261

Continúa la serie 231 - 234 -

5.- Escribe de 5 en 5 desde el 205 al 265

Continúa la serie 205 - 210 -

Y hacia atrás de 5 en 5 desde el 295 al 245

Continúa la serie 295 - 290 -

6.- Escribe el nombre de los siguientes números:

200 - 214 - 229 - 216 - 223 - 235 - 248 - 250 - 267 - 282 - 285

7.- Ordena de mayor a menor

230 - 254 - 222 - 215 - 243 - 195 - 240 - 249 - 162 - 285 - 275

8.- Ordena de menor a mayor

220 - 274 - 221 - 199 - 273 - 232 - 244 - 241 - 168 - 205 - 215

9.- Escribir el anterior y posterior de los siguientes números:

	220	
--	-----	--

	260	
--	-----	--

	270	
--	-----	--

	249	
--	-----	--

	251	
--	-----	--

	200	
--	-----	--

10.- Escribir mayor (>) o menor (<)

230		206
-----	--	-----

244		290
-----	--	-----

160		258
-----	--	-----

241		251
-----	--	-----

130		129
-----	--	-----

222		210
-----	--	-----

11.- Descompón en centenas, decenas y unidades, de 5 formas distintas, los siguientes números:

228 - 257 - 206 - 266 - 280 - 239

Ejemplos con el 228:

2 C 2 D y 8 U

2C y 28 U

22D y 8 U

21 D y 18 U

20 D y 28 U



ACTIVIDADES DE NUMERACION DEL 100 AL 199

1.- Escribe del 340 al 380

Continúa la serie en tu cuaderno 340 - 341 - 342 -

2.- Escribe hacia atrás del 380 al 340

Continúa la serie en tu cuaderno 380 - 379 - 378 -

3.- Escribe de 2 en 2 desde el 350 al 398

Continúa la serie 350 - 352 -

Y hacia atrás de 2 en 2 desde el 400 al 350

Continúa la serie 400 - 398 -

4.- Escribe de 3 en 3 desde el 310 al 330

Continúa la serie 310 - 313 -

Y de 3 en 3 desde el 332 al 365

Continúa la serie 332 - 335 -

5.- Escribe de 5 en 5 desde el 350 al 400

Continúa la serie 350 - 355 -

Y hacia atrás de 5 en 5 desde el 350 al 300

Continúa la serie 350 - 345 -

6.- Escribe el nombre de los siguientes números:

310 - 324 - 349 - 226 - 313 - 355 - 349 - 352 - 360 - 392 - 381

7.- Ordena de mayor a menor

340 - 343 - 233 - 352 - 348 - 392 - 280 - 143 - 262 - 382 - 370

8.- Ordena de menor a mayor

303 - 356 - 315 - 169 - 174 - 332 - 245 - 346 - 268 - 105 - 325

9.- Escribir el anterior y posterior de los siguientes números:

	330	
--	-----	--

	370	
--	-----	--

	380	
--	-----	--

	300	
--	-----	--

	341	
--	-----	--

	301	
--	-----	--

10.- Escribir mayor (>) o menor (<)

340		299
-----	--	-----

324		390
-----	--	-----

200		311
-----	--	-----

199		300
-----	--	-----

330		303
-----	--	-----

362		370
-----	--	-----

11.- Descompón en centenas, decenas y unidades, de 5 formas distintas, los siguientes números:

357 - 300 - 342 - 336 - 390 - 334

Ejemplos con el 357:


3C 5D + 7U

3C + 57U

35D + 7U

2C + 15D + 7U

1C + 15D + 107U



ACTIVIDADES DE NUMERACION DEL 400 AL 499

1.- Escribe del 450 al 480

Continúa la serie en tu cuaderno 450 - 451 - 452 -

2.- Escribe hacia atrás del 450 al 410

Continúa la serie en tu cuaderno 450 - 449 - 448 -

3.- Escribe de 2 en 2 desde el 460 al 500

Continúa la serie 460 - 462 -

Y hacia atrás de 2 en 2 desde el 450 al 400

Continúa la serie 450 - 448 - 446

4.- Escribe de 3 en 3 desde el 420 al 470

Continúa la serie 420 - 423 -

Y hacia atrás de 3 en 3 desde el 500 al 460

Continúa la serie 500 - 497 - 494

5.- Escribe de 5 en 5 desde el 410 al 460

Continúa la serie 410 - 415 -

Y hacia atrás de 5 en 5 desde el 500 al 460

Continúa la serie 500 - 495 - 490

6.- Escribe el nombre de los siguientes números:

406 - 412 - 427 - 436 - 440 - 458 - 461 - 479 - 480 - 493

7.- Ordena de mayor a menor

457 - 475 - 324 - 249 - 448 - 302 - 199 - 459 - 270 - 480 - 452

8.- Ordena de menor a mayor

297 - 482 - 158 - 260 - 479 - 488 - 325 - 460 - 118 - 405 - 222

9.- Escribir el anterior y posterior de los siguientes números:

	480	
--	-----	--

	400	
--	-----	--

	489	
--	-----	--

	440	
--	-----	--

	438	
--	-----	--

	401	
--	-----	--

10.- Escribir mayor (>) o menor (<)

444		388
-----	--	-----

425		426
-----	--	-----

399		401
-----	--	-----

309		400
-----	--	-----

230		403
-----	--	-----

457		475
-----	--	-----

11.- Descompón en centenas, decenas y unidades, de 5 formas distintas, los siguientes números:

475 - 434 - 486 - 400 - 440 - 401

Ejemplos con el 475:


4 C 7 D + 5 U

4C + 75 U

47D + 5 U

3C + 17D + 5 U

2C + 27D + 5 U



ACTIVIDADES DE NUMERACION DEL 500 AL 599

1.- Escribe del 560 al 590

Continúa la serie en tu cuaderno 560 - 561 - 562 -

2.- Escribe hacia atrás del 560 al 520

Continúa la serie en tu cuaderno 560 - 559 - 558 -

3.- Escribe de 2 en 2 desde el 556 al 598

Continúa la serie 556 - 558 - 560

Y hacia atrás de 2 en 2 desde el 556 al 500

Continúa la serie 556 - 554 - 552

4.- Escribe de 3 en 3 desde el 500 al 551

Continúa la serie 500 - 503 -

Y hacia atrás de 3 en 3 desde el 599 al 551

Continúa la serie 599 - 597 - 594

5.- Escribe de 5 en 5 desde el 556 al 596

Continúa la serie 556 - 561 -

Y hacia atrás de 5 en 5 desde el 556 al 501

Continúa la serie 556 - 551 - 446

6.- Escribe el nombre de los siguientes números:

557 - 575 - 524 - 549 - 548 - 502 - 599 - 559 - 570 - 580 - 552

7.- Ordena de mayor a menor

506 - 512 - 428 - 456 - 540 - 458 - 361 - 372 - 581 - 590 - 542

8.- Ordena de menor a mayor

592 - 581 - 458 - 259 - 575 - 588 - 425 - 565 - 318 - 505 - 252

9.- Escribir el anterior y posterior de los siguientes números:

	590	
--	-----	--

	500	
--	-----	--

	569	
--	-----	--

	550	
--	-----	--

	548	
--	-----	--

	501	
--	-----	--

10.- Escribir mayor (>) o menor (<)

544		288
-----	--	-----

524		424
-----	--	-----

499		501
-----	--	-----

509		409
-----	--	-----

530		449
-----	--	-----

557		479
-----	--	-----

11.- Descompón en centenas, decenas y unidades, de 5 formas distintas, los siguientes números:

532 - 527 - 550 - 539 - 570 - 505

Ejemplos con el 532:

5C 3D + 2U

5C + 32U

53D + 2U

4C + 13D + 2U

3C + 15D + 102U

