





Tarea de casa método ABN 1º - 1

Nombre: \_\_\_\_\_

Fecha: \_\_\_\_\_

1	2	3	4	5	6	7	8	9	10	11	12	13	14	15	16	17	18	19	20	21	22	23	24	25	26	27	28	29	30
---	---	---	---	---	---	---	---	---	----	----	----	----	----	----	----	----	----	----	----	----	----	----	----	----	----	----	----	----	----

1 ¿Cuántos palillos hay?



2 Mira la recta numérica y escribe el anterior y el posterior

[ ] < 10 < [ ]

[ ] < 15 < [ ]

[ ] < 27 < [ ]


3 Mira la recta numérica y ordena estos números de menor a mayor:

25, 2, 18

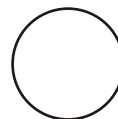



< <

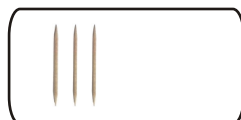

4 Escribe el doble de estos números después de dibujar los palillos:




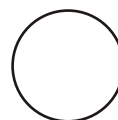

1



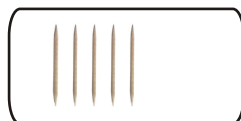


2



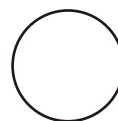

3



4





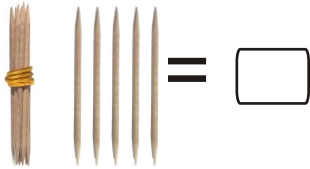
5



Mi hijo/a ha hecho esta tarea	Firma del padre o de la madre
<input type="checkbox"/> Solo <input type="checkbox"/> Con ayuda	_____

1	2	3	4	5	6	7	8	9	10	11	12	13	14	15	16	17	18	19	20	21	22	23	24	25	26	27	28	29	30
---	---	---	---	---	---	---	---	---	----	----	----	----	----	----	----	----	----	----	----	----	----	----	----	----	----	----	----	----	----

1 ¿Cuántos palillos hay?



2 Mira la recta numérica y escribe el anterior y el posterior

< 10 <

< 15 <

< 27 <

3 Mira la recta numérica y ordena estos números de menor a mayor:

17, 26, 9

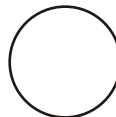


< <



4 Escribe el doble de estos números. Fíjate en el dibujo:




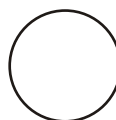
1





2



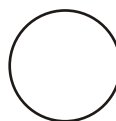
3



4



5



<p>Mi hijo/a ha hecho esta tarea</p> <p><input type="checkbox"/> Solo</p> <p><input type="checkbox"/> Con ayuda</p>	<p>Firma del padre o de la madre</p>
---------------------------------------------------------------------------------------------------------------------	--------------------------------------

1	2	3	4	5	6	7	8	9	10	11	12	13	14	15	16	17	18	19	20	21	22	23	24	25	26	27	28	29	30
---	---	---	---	---	---	---	---	---	----	----	----	----	----	----	----	----	----	----	----	----	----	----	----	----	----	----	----	----	----

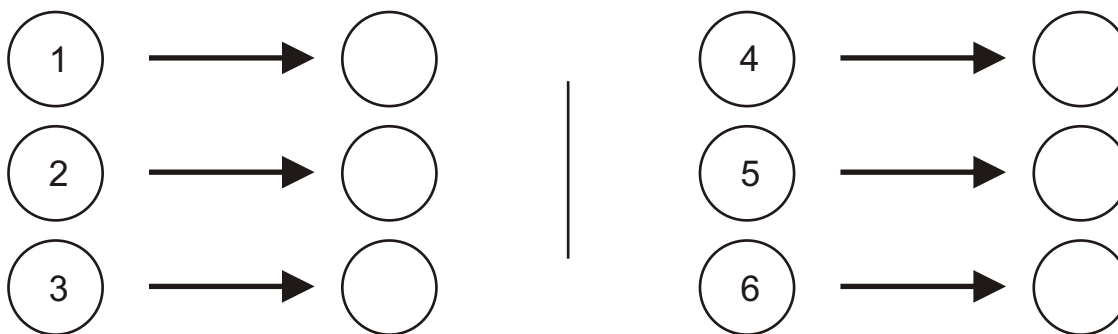
1 ¿Cuántos palillos hay?



2 Mira la recta numérica y completa las series:



3 Escribe el doble de estos números:




4 Calcula mentalmente:

- |      |      |      |      |
|------|------|------|------|
| 1+1= | 2+2= | 3+3= | 4+4= |
| 1+2= | 2+3= | 3+4= | 4+5= |
| 1+3= | 2+4= | 3+5= | 4+6= |


Mi hijo/a ha hecho esta tarea <input type="checkbox"/> Solo <input type="checkbox"/> Con ayuda	Firma del padre o de la madre
------------------------------------------------------------------------------------------------------	-------------------------------




1 Calcula:




$$\square + \square = \bigcirc$$



$$\square + \square = \bigcirc$$



$$\square + \square = \bigcirc$$



$$\square + \square = \bigcirc$$

2 Escribe el doble de estos números:

2 →

3 →

4 →

5 →

6 →

7 →

3 Escribe los números del 1 al 20 de forma ascendente y descendente:

1																			20
---	--	--	--	--	--	--	--	--	--	--	--	--	--	--	--	--	--	--	----

20																			1
----	--	--	--	--	--	--	--	--	--	--	--	--	--	--	--	--	--	--	---

Mi hijo/a ha hecho esta tarea

- Solo
- Con ayuda

Firma del padre o de la madre



1	2	3	4	5	6	7	8	9	10	11	12	13	14	15	16	17	18	19	20	21	22	23	24	25	26	27	28	29	30
---	---	---	---	---	---	---	---	---	----	----	----	----	----	----	----	----	----	----	----	----	----	----	----	----	----	----	----	----	----

Observa la recta numérica y resuelve estos problemas:

- 1 Antonio tiene 14 años. ¿Cuántos años tendrá dentro de tres años?
- 2 Juan tiene 3 euros y su hermana tiene el doble. ¿Cuántos euros tiene su hermana?
- 3 Luis tiene 8 caramelos y su abuelo le regala otros cinco. ¿Cuántos caramelos tiene ahora Luis?
- 4 En mi fiesta de cumpleaños había 24 globos y se explotaron 5. ¿Cuántos globos quedan?
- 5 Almudena tenía 15 euros y se le perdieron cuatro. ¿Cuántos euros le quedan?


Mi hijo/a ha hecho esta tarea

- Solo  
 Con ayuda

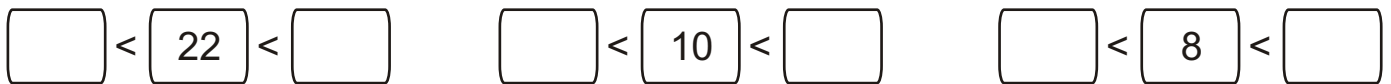
Firma del padre o de la madre

1	2	3	4	5	6	7	8	9	10	11	12	13	14	15	16	17	18	19	20	21	22	23	24	25	26	27	28	29	30
---	---	---	---	---	---	---	---	---	----	----	----	----	----	----	----	----	----	----	----	----	----	----	----	----	----	----	----	----	----

1 ¿Cuántos palillos hay?



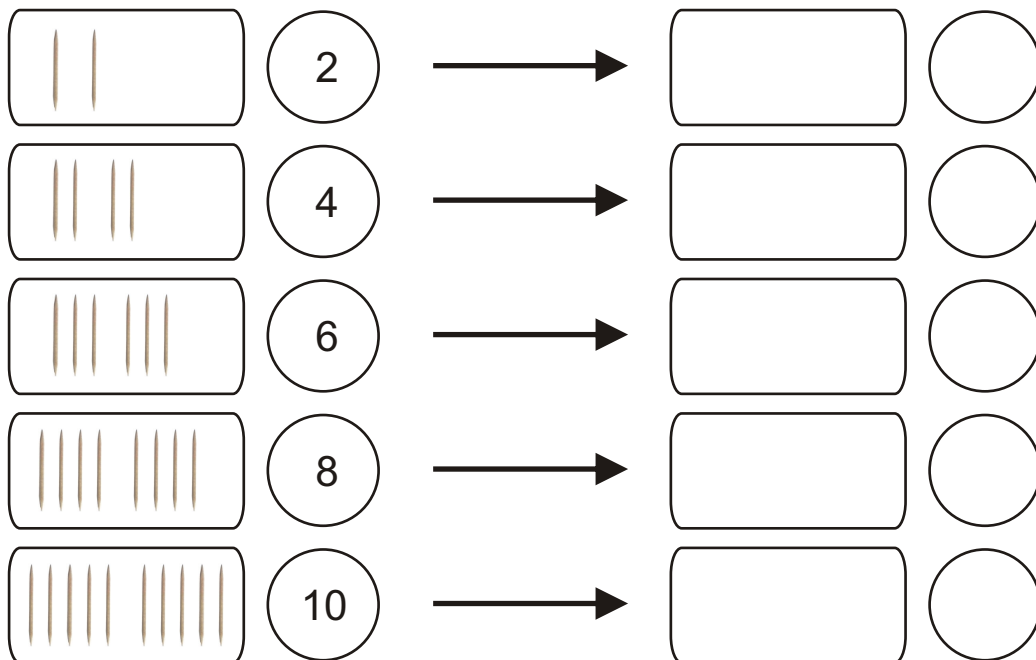
2 Mira la recta numérica y escribe el anterior y el posterior



3 Mira la recta numérica y ordena estos números de menor a mayor:



4 Escribe la mitad de estos números después de dibujar los palillos:



Mi hijo/a ha hecho esta tarea


- Solo
- Con ayuda

Firma del padre o de la madre



1	2	3	4	5	6	7	8	9	10	11	12	13	14	15	16	17	18	19	20	21	22	23	24	25	26	27	28	29	30
---	---	---	---	---	---	---	---	---	----	----	----	----	----	----	----	----	----	----	----	----	----	----	----	----	----	----	----	----	----

1 ¿Cuántos palillos hay?



2 Mira la recta numérica y escribe el anterior y el posterior

<  <      
  <  <      
  <  <

3 Mira la recta numérica y ordena estos números de menor a mayor:

      $\longrightarrow$      


4 Escribe la mitad de estos números:

	<input type="text" value="2"/>	$\longrightarrow$	<input type="text"/>
	<input type="text" value="4"/>	$\longrightarrow$	<input type="text"/>
	<input type="text" value="6"/>	$\longrightarrow$	<input type="text"/>
	<input type="text" value="8"/>	$\longrightarrow$	<input type="text"/>
	<input type="text" value="10"/>	$\longrightarrow$	<input type="text"/>

Mi hijo/a ha hecho esta tarea <input type="checkbox"/> Solo <input type="checkbox"/> Con ayuda	Firma del padre o de la madre
------------------------------------------------------------------------------------------------------	-------------------------------

1	2	3	4	5	6	7	8	9	10	11	12	13	14	15	16	17	18	19	20	21	22	23	24	25	26	27	28	29	30
---	---	---	---	---	---	---	---	---	----	----	----	----	----	----	----	----	----	----	----	----	----	----	----	----	----	----	----	----	----

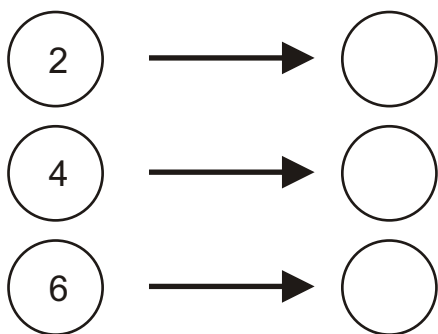
1 ¿Cuántos palillos hay?



2 Mira la recta numérica y completa las series:



3 Escribe la mitad de estos números:



4 Calcula mentalmente:

10+1=

20+2=

30+3=

40+4=

10+2=

20+3=

30+4=

40+5=

10+3=

20+4=

30+5=

40+6=

Mi hijo/a ha hecho esta tarea

Solo

Con ayuda

Firma del padre o de la madre





1 Calcula:

+  =

+  =

+  =

+  =

2 Escribe la mitad de estos números:

(4) →   
 (6) →   
 (8) →

(10) →   
 (12) →   
 (14) →

3 Escribe los números del 10 al 30 de forma ascendente y descendente:

10 | | | | | | | | | | | | | | | | | | | | | 30

30 | | | | | | | | | | | | | | | | | | | | | 10

Mi hijo/a ha hecho esta tarea  Solo  Con ayuda
 Firma del padre o de la madre



1	2	3	4	5	6	7	8	9	10	11	12	13	14	15	16	17	18	19	20	21	22	23	24	25	26	27	28	29	30
---	---	---	---	---	---	---	---	---	----	----	----	----	----	----	----	----	----	----	----	----	----	----	----	----	----	----	----	----	----

Observa la recta numérica y resuelve estos problemas:

- 1 Antonio tiene 16 años y su hermano tiene cuatro años más que él.  
¿Cuántos años tiene el hermano de Antonio?
- 2 Juan tiene 8 euros y su hermana tiene la mitad.  
¿Cuántos euros tiene su hermana?
- 3 Luis tiene 23 caramelos y su abuelo le regala otros cinco.  
¿Cuántos caramelos tiene ahora Luis?
- 4 En mi fiesta de cumpleaños había 16 globos y se explotaron 4.  
¿Cuántos globos quedan?
- 5 Almudena tenía 12 euros y se le perdieron cinco.  
¿Cuántos euros le quedan?

Mi hijo/a ha hecho esta tarea

- Solo  
 Con ayuda

Firma del padre o de la madre



1 Haz la descomposición de estos números de varias formas diferentes:

43	
D	U
D	U
D	U
D	U

54	
D	U
D	U
D	U
D	U

71	
D	U
D	U
D	U
D	U

2 Calcula:

35 + 14		

46 + 22		

39 + 12		

3 Completa la serie:

124 → 125 →  →  →  →  →  →

Mi hijo/a ha hecho esta tarea

- Solo
- Con ayuda

Firma del padre o de la madre