


Nombre _____

Fecha _____

En un bazar venden estos objetos:



25 Cts.



60 Cts.



5 Cts.



40 Cts.

1. Ordénalos de más barato a más caro.

S: _____

2. ¿Qué diferencia de precios hay entre el más caro y el más barato?

S: _____

3. Quiero regalar tres paquetes de velas. ¿Cuánto me costará?

S: _____

4. Tengo este dinero. ¿Podré comprar un tambor? ¿Me devolverán algo?



S: _____

S: _____

5. Con ese dinero, ¿puedo comprar una bici? ¿Cuánto me faltará?

S: _____

S: _____

6. ¿Cuánto cuestan la pelota, las velas y el tambor juntos?

S: _____

7. Si tengo



y



¿Puedo comprar la bici?

S: _____

8. ¿Cuántas cosas podría como comprar con ese dinero? Cita todas las que puedas.

S: _____

9. Si con mis 90cts. me he comprado la bici y mi tía me ha regalado ¿Cuánto dinero me queda?



S: _____

Nombre: _____

Fecha: _____

1. ¿Cuánto dinero tengo con siete monedas como ésta?

S: _____



2. Si tengo cinco monedas como ésta ¿Cuánto dinero hay?

S: _____



3. Tengo 90cent ¿Cuánto me queda si me compro la goma más cara? ¿Puedo comprar las dos?

35cent.



60cent.

S: _____ S: _____

4. Si mi tío me regala 50 cent. y mi tía me regala 20 más que él. ¿Cuánto me ha regalado mi tía?

S: _____



5. Si mi madre me da 60cent y mi padre 10 menos ¿Cuánto dinero tengo?

S: _____



6. Si al pagar la entrada al zoo le doy 90cent y me devuelven ¿Cuánto cuesta la entrada?

S: _____



5cent

7. ¿Cuál de estas cosas puedo comprar con 4 de estas monedas?




Opera.



12cent



32cent



22cent

S: _____

8. ¿Quiero comprar 4 paquetes con 97cent. ¿Me faltará o me sobrará?
¿Cuánto?



sobrar?

30cent

S: _____

S: _____

Nombre: _____

Fecha: _____

En la carta de un restaurante encontramos:



1. Ordena de más caro a más barato todo lo que puedes comer

R: _____

2. Escribe cuánto te costaría comerte una paella, unos calamares y un flan de huevo.

R: _____

3. ¿Puedes comerte un primer plato, un segundo y un postre con 22€? Escríbelos

Primer plato:

Tengo:

Segundo plato:

Postre:

R: _____

4. Si me he comido cuatro tocinos de cielo ¿Cuánto me ha costado? ¿Y tres flanes?



R: _____ R: _____

5. Si he pagado con 50€ y me han devuelto 29€ ¿Cuánto me ha costado la comida?




R: _____

6. Si yo he pagado 25€ y mi hermano ha pagado cuatro más que yo, ¿Cuánto nos ha costado comer en total?

Yo he pagado:

Mi hermano ha pagado:



R: _____

7. Si nos traen la cuenta y mi madre paga con tres billetes de 10€ ¿Cuánto ha pagado?



R: _____

8. Si mi padre paga con un billete de 50€ y el camarero me devuelve con dos billetes de 5€ ¿Cuánto ha costado la comida?



R: _____

Nombre _____ Fecha _____

En una tienda de chucherías hay gominolas, regalices, huevos fritos y caramelos Sugus:



2 Cts.



5 Cts.



4 Cts.



6 Cts.

1. Ordénalas de más baratas a más caras.

S: _____

2. ¿Qué diferencia de precios hay entre la más cara y la más barata?

S: _____

3. Quiero comprar seis regalices. ¿Cuánto me costará?

S: _____

4. Tengo este dinero. ¿Podré comprar un huevo frito? ¿Me devolverán algo?



S: _____

S: _____

5. Con ese dinero, ¿puedo comprar un Sugus? ¿Cuánto me sobará o faltará?

S: _____

S: _____

6. ¿Cuánto cuestan la gominola, el huevo frito y el regaliz juntos?

S: _____

7. Si tengo
Utiliza sólo



¿Cuántas chuches me puedo comprar sin que me sobre dinero?
la multiplicación (por eso hay tres soluciones).

S: _____

S: _____

S: _____

8. Si he pagado con una moneda de 10cent y me devuelven 8cent ¿Qué he comprado?

S: _____

9. Si con esas monedas he comprado un huevo frito y luego mi madre me ha dado 10cent
¿Cuánto dinero me queda?



S: _____