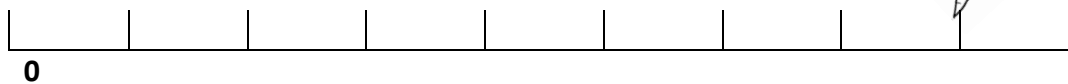




¿CUANTOS SALTOS DEBE DAR EL CONEJO PARA LLEGAR A LA ZANAHORIA?



¿CUANTOS SALTOS DEBE DAR LA RANA PARA LLEGAR A LA MOSCA?



¿CUANTOS SALTOS DEBE DAR EL GRILLO PARA LLEGAR A LA HOJA?



PEGA ESTA HOJA EN TU CUADERNO

REALIZA LOS BRINCOS QUE DEBE DAR EL CONEJO, TRAZA LOS SALTOS Y PINTA EN LA REGLETA

CINCO



--	--	--	--	--	--	--	--	--	--

SIETE



--	--	--	--	--	--	--	--	--	--

NUEVE



--	--	--	--	--	--	--	--	--	--

PEGA ESTA HOJA EN TU CUADERNO