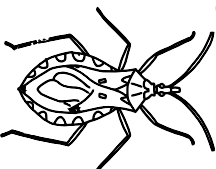
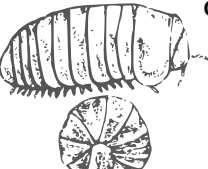
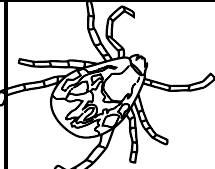



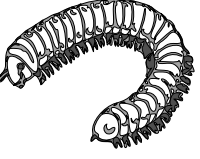




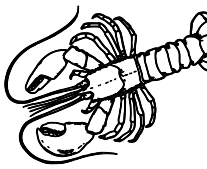


ARTROPODOS

Los artrópodos son invertebrados que se caracterizan por tener "patas articuladas". Comprenden cuatro grandes grupos: Insectos, Arácnidos, Crustáceos y Miriápodos. Seguro que conoces muchísimos de estos artrópodos. Pero ¿sabrías decir a qué grupo pertenecen? Si quieres saberlo sólo tienes que realizar las divisiones y el resto te dará la solución según la clave.

 <p>CHINCE Soy un</p>	 <p>GLOMERIS Soy un</p>	 <p>GARRAPATA Soy un</p>	 <p>CANGREJO VIOLINISTA Soy un</p>
: 63	: 72	: 81	: 90
45739	59332	39935	67233
R =	R =	R =	R =
 <p>ESCORPIÓN Soy un</p>	 <p>PERCEBES Soy un</p>	 <p>MILPIÉS Soy un</p>	 <p>MOSQUITO Soy un</p>
: 54	: 26	: 35	: 37
38018	25171	34724	36409
R =	R =	R =	R =
 <p>CIEMPIÉS Soy un</p>	 <p>ARAÑA Soy un</p>	 <p>TIJERETA Soy un</p>	 <p>CIGALA Soy un</p>
: 64	: 82	: 91	: 84
54660	52892	41497	63675
R =	R =	R =	R =

CLAVES: Si el resto de las divisiones te da:

1. Es un insecto 2. Es un Arácnido 3. Es un crustáceo 4. Es un miriápodo