


PROBLEMAS DE MATEMÁTICAS

Resuelve los problemas y con los resultados colorea el dibujo oculto.
Lee muy bien para que puedas comprender y contestar.

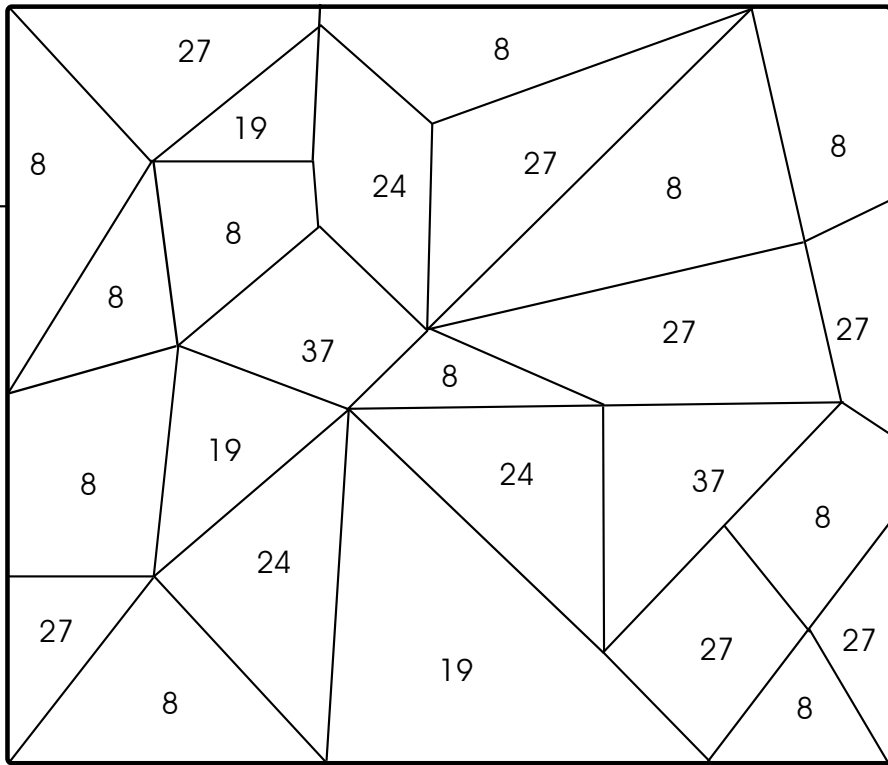

Gaby compró 3 bolsas de caramelos de \$4. Si pagó con un billete de \$20, ¿Cuánto dinero le sobró?

Amarillo



Yolanda hizo un pedido a la papelería de 5 plumas, 8 lápices, 2 paquetes de hojas y 4 gomas para borrar. ¿Cuántos productos deben entregarle a Yolanda en la papelería?

Naranja



Un doctor recetó a su paciente que tomara 3 pastillas durante 9 días para que se curase de la garganta. ¿Cuántas pastillas deberá tomar?

Amarillo



Verónica compró 7 cajas con 6 chocolates cada una. Después regaló 5 chocolates. ¿Cuántos chocolates le quedaron?



Naranja

Un almacén de ropa recibió 72 vestidos de los cuales 11 eran talla grande, 37 eran talla mediana y el resto eran talla chica. ¿Cuántos vestidos talla chica recibió?

Naranja

