




# PROBLEMAS DE MATEMÁTICAS



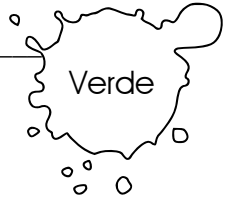
Resuelve los problemas y con los resultados colorea las letras para descubrir el mensaje oculto. Los demás números y el fondo píntalos de negro.

209	68	62	15	58	115	62	15	75	62	133	19
TAPUVALINASEAL											
79	209	115	75	15	200	125	75	68	133	115	
APUVALINASEAL											
133	200	68	110	15	62	125	110	62	58	110	19
TAPUVALINASEAL											
133	68	115	79	15	68	209	79	133	79	19	
TAPUVALINASEAL											
209	15	110	75	62	58	200	110	62	15	75	115
TAPUVALINASEAL											


Cuando Roberto terminó de jugar canicas había ganado 35, con las que completó un total de 97 ¿Cuántas canicas tenía antes de jugar? \_\_\_\_\_



Dionisio fue a la tienda de juguetes y con sus ahorros compró una pelota de \$75 y un trompo de \$17. Al salir de la tienda, Dionisio se dio cuenta de que le habían quedado \$18 ¿Cuánto tenía ahorrado? \_\_\_\_\_



Evelia, hermana de Dionisio, tenía poco dinero ahorrado y le pidió a su papá \$65 para comprar una muñeca de \$123 ¿Cuánto dinero había ahorrado Evelia? \_\_\_\_\_



Margarita fue a la feria. Cada turno en el tiro al blanco con rifle cuesta \$25, en un principio hizo 3 turnos, en otro momento 5.

¿Cuánto pagó en el primer momento? \_\_\_\_\_



¿Cuánto pagó en el segundo? \_\_\_\_\_



¿Cuánto pagó en total? \_\_\_\_\_



Margarita y Rosalba fueron a la ferretería y compraron 2 martillos de \$73 cada uno, y un juego de desarmadores de \$89 ¿Si llevaban \$250 cuánto les sobró de cambio? \_\_\_\_\_

