

NOMBRE:

FECHA:



Averigua qué países de la lista tienen frontera con Brasil. Para ello haz las operaciones y el resultado te indicará el nombre del país que tienes dibujado en el mapa.

Perú 234

México 165

Venezuela 84

Argentina 207

Colombia 178

Chile 74

Paraguay 97

Uruguay 109

<input type="text"/>	X	<input type="text"/>	=	<input type="text"/>
<input type="text"/>	X	<input type="text"/>	=	<input type="text"/>
<input type="text"/>	X	<input type="text"/>	=	<input type="text"/>

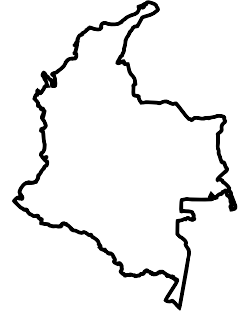
<input type="text"/>	X	<input type="text"/>	=	<input type="text"/>
<input type="text"/>	X	<input type="text"/>	=	<input type="text"/>
<input type="text"/>	X	<input type="text"/>	=	<input type="text"/>

			: 97
8 151			
R = 3			84



Venezuela

			: 53
9 435			
R = 1			178

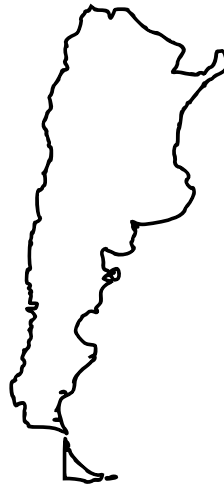


Colombia

<input type="text"/>	X	<input type="text"/>	=	<input type="text"/>
<input type="text"/>	X	<input type="text"/>	=	<input type="text"/>
<input type="text"/>	X	<input type="text"/>	=	<input type="text"/>

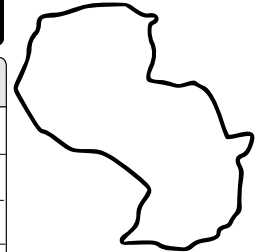
<input type="text"/>	X	<input type="text"/>	=	<input type="text"/>
<input type="text"/>	X	<input type="text"/>	=	<input type="text"/>
<input type="text"/>	X	<input type="text"/>	=	<input type="text"/>

			: 48
9 940			
R = 4			207



Argentina

			: 73
7 146			
R = 65			97

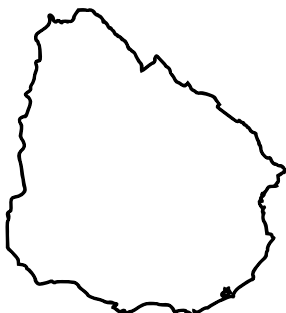


Paraguay

<input type="text"/>	X	<input type="text"/>	=	<input type="text"/>
<input type="text"/>	X	<input type="text"/>	=	<input type="text"/>
<input type="text"/>	X	<input type="text"/>	=	<input type="text"/>

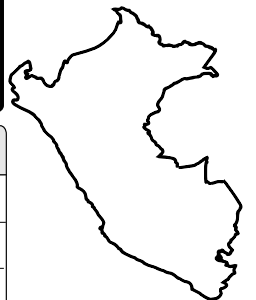
<input type="text"/>	X	<input type="text"/>	=	<input type="text"/>
<input type="text"/>	X	<input type="text"/>	=	<input type="text"/>
<input type="text"/>	X	<input type="text"/>	=	<input type="text"/>

			: 81
8 876			
R = 47			109



Uruguay

			: 29
6 802			
R = 16			234



Perú

