

PRESIDENTES DEL PERÚ (PORCENTAJES)

Resuelve los siguientes problemas de porcentajes y con la respuesta hallarás el nombre de cada presidente del Perú, luego pega en su lugar correspondiente.

1
 En el aparcamiento de unos grandes almacenes hay 420 coches, de los que el 35 % son blancos. ¿Cuántos coches hay no blancos?

Miguel San Román


2
 En una ciudad de 23 500 habitantes, el 68% están contentos con la gestión municipal. ¿Cuántos ciudadanos son?

Agustin Gamarra

3
 Por haber ayudado a mi hermano en un trabajo, me da el 12% de los 50 soles que ha cobrado. ¿Cuánto dinero recibiré?


Eduardo López de Romaña

37,5%



1865 - 1868

20%



1827 - 1829

37995



1843 - 1844

REYNALDO CARTOLIN R.

4
 Pedro posee el 51% de las acciones de un negocio. ¿Qué cantidad le corresponde si los beneficios han sido de 74 500 soles?

Manuel Ignacio de Vivanco


5
 Para el cumpleaños de mi hermano han comprado dos docenas de pasteles y yo me he comido 9. ¿Qué porcentaje del total me he comido?

Mariano Ignacio Prado

6
 Una máquina que fabrica tornillos produce un 3% de piezas defectuosas. Si hoy se han apartado 51 tornillos defectuosos, ¿cuántas piezas ha fabricado la máquina?


Remigio Morales Bermúdez

16




1886 - 1890 (electo)

273



1862 (murió en el cargo)

80



1845 - 1851 (electo)

7
 En una clase de 30 alumnos y alumnas, hoy han faltado 6. ¿Cuál ha sido el porcentaje de ausencias?

José de la Mar


8
 Un hospital tiene 420 camas ocupadas, lo que representa el 84% del total. ¿De cuántas camas dispone el hospital?

Gral. Ramon Castilla

9
 De 475 hombres encuestados solamente 76 declaran saber planchar. ¿Qué porcentaje de hombres reconocen saber planchar?

Andres Avelino Caceres

15980




1829 (electo)

1700



1890 - 1894 (electo)

6



1899 - 1903 (electo)