




Nombre: _____

Fecha: _____



Haz los siguientes problemas, suma los resultados y sabras quien ha conseguido más caramelos, si Manolito disfrazado de momia o Julieta disfrazada de bruja.



Hemos comprado 5 rollos de vendas con doscientos veintiseis metros cada uno. ¿Cuántos metros he comprado en total?


Si el metro ha costado a catorce centimos. ¿Cuántos euros han costado los seis rollos?

De todos los metros nos han sobrado una cuarta parte. ¿Cuántos metros de vendas hemos gastado?

Blank space for solving the first problem.

Blank space for solving the second problem.

Blank space for solving the third problem.



Dieciocho niñas de la clase nos hemos disfrazado de brujas. Si las escobas costaron tres euros y cincuenta céntimos. ¿Cuánto gastamos?

Si pagamos con un billete de cincuenta euros y otro de veinte euros. ¿Cuánto nos devolvieron?

Si empezamos a ir por caramelos a las 18:32 y acabamos a las 20:15. ¿Cuántos minutos estuvimos?

Blank space for solving the fourth problem.


Blank space for solving the fifth problem.

Blank space for solving the sixth problem.



Yo he conseguido...

Y yo he conseguido...



Blank box for the mummy character to write the result.

Blank box for the witch character to write the result.

