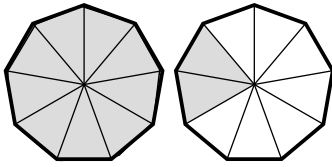


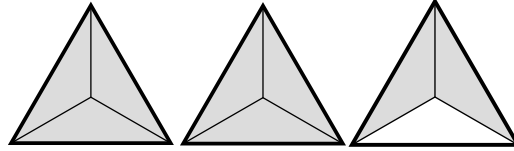


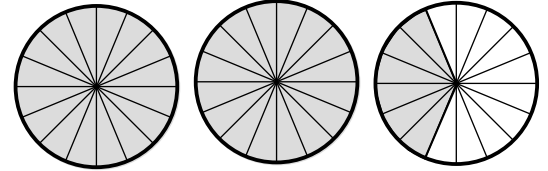
Un entero y más

Ubicamos fracciones mayores a un entero en la recta numérica

1. Observa cada figura y escribe las fracciones que correspondan







2. Si tuvieras que ubicar las fracciones anteriores en una recta numérica, iniciaría en 0 ¿Dónde terminaría? _____ Ahora traza cada fracción en la recta siguiente:



3. Marca las siguientes fracciones en la recta numérica. $\frac{9}{6}$ $\frac{16}{4}$ $\frac{9}{3}$ $\frac{7}{2}$ $\frac{23}{4}$



4. Representa con dibujos las siguientes fracciones: $\frac{9}{8}$ $\frac{15}{7}$ $\frac{23}{9}$ $\frac{35}{14}$ $\frac{38}{10}$

