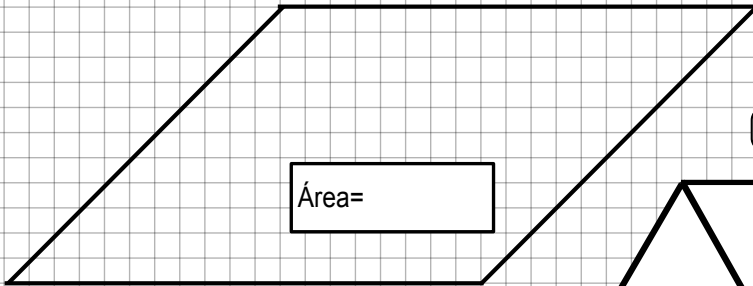
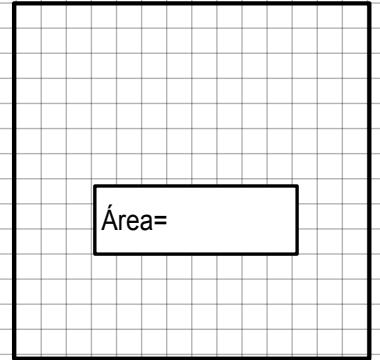
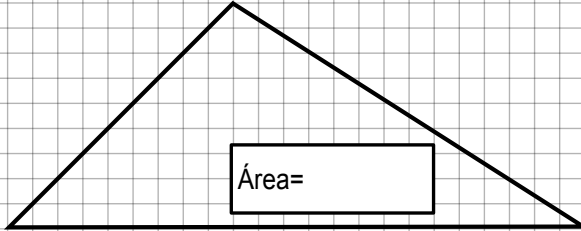
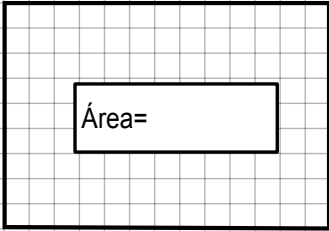


# ÁREAS DE FIGURAS II

Calcula el área de las siguientes figuras utilizando como unidad de medida un cuadrado, colorea de azul los resultados en el dibujo, al terminar recorta y arma la figura que se obtuvo



Mtro. Jesús González Molina  
gonzalez\_molina79@hotmail.com



actiludis.com (cc) BY-NC-SA

