

AUSPICIADORES DE EQUIPOS DE FUTBOL

(SEGMENTOS)

Halla el valor de BC, si $AD=12$, $AC=10$ y $BD=9$.



Halla el valor de "x" si $PR=30$.

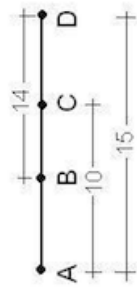


De acuerdo a la figura, halla el valor de BC-AB.



TOULOUSE

Si A, B, C y D son puntos colineales y consecutivos, halla el valor de BC cuando $AC=BD=10$ y $AD=15$



De la figura, indica el valor de BC

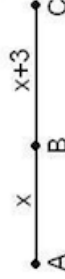
UNIVERSITARIO

De acuerdo a la figura, calcula BC, si $AD=10$, $AC=8$ y $BD=6$



PEÑAROL

De la figura, halla la longitud del menor segmento si $AC=10$.



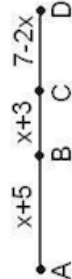
RACING

Según la figura, $AP=18m$ y $AB=CP=5m$, Halla BC.



NEWELL'S

Calcula la distancia entre los puntos "A" y "D", si $x = 2$



BOTAFOGO

Según la figura, calcula PQ, si $AD=23m$ y $AP=QD=10m$.



RIVER PLATE

Halla la m BC, si $AB=12$, $BD=24$ y C es punto medio de AD.

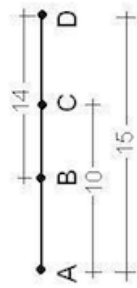


De acuerdo a la figura, halla AB, si $AC=30m$ y $BC=18m$.



ALIANZA LIMA

De la figura, indica el valor de BC



3,5



8



12



10



9



4



15



6



7



5



-10



Resuelve los siguientes segmentos el resultado dará como respuesta la marca deportiva que auspicia a los equipos de futbol de diversos clubes.