




Nombre: \_\_\_\_\_

## PROBLEMAS DE

# PRODUCTOS Y REPARTOS

Lee cada problema y responde correctamente



1. Raúl desea comprar 8 jugos de naranja, si cada uno cuesta \$ 6.00 ¿Cuánto debe pagar por los 8 jugos?

\_\_\_\_\_

2. En la cooperativa de la escuela hay una promoción donde pagando una malteada te regalan unas galletas. Las malteadas que puedes escoger son de vainilla y fresa y las galletas de chocolate, vainilla y nuez.

¿De cuántas maneras diferentes puedes pedir la promoción?

\_\_\_\_\_

3. La maestra tiene 48 lápices y los quiere repartir entre 3 niños.

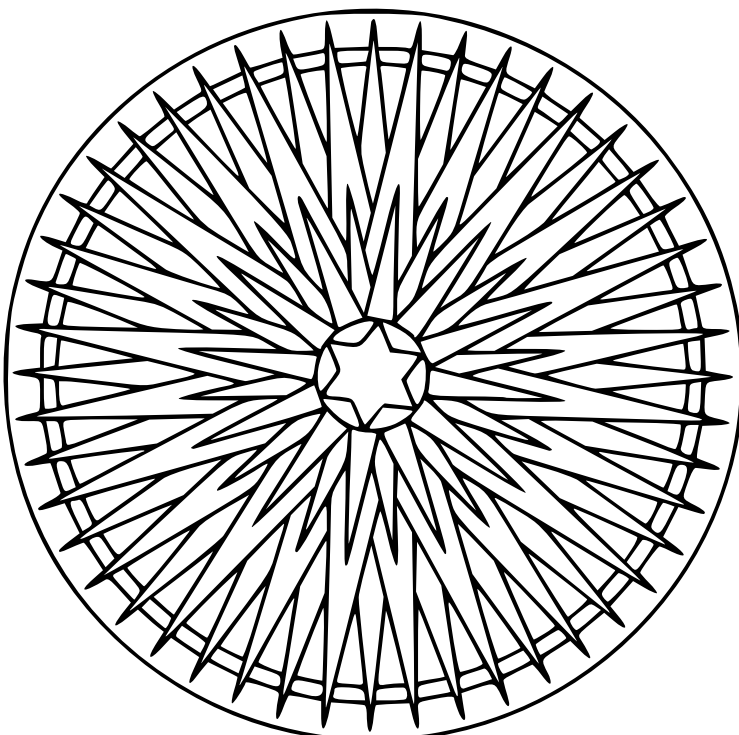
¿Cuántos le tiene que dar a cada uno para que los tres niños tengan la misma cantidad de lápices?

\_\_\_\_\_


4. Se tienen 720 naranjas y se quieren poner 60 naranjas en cada costal.

¿Cuántos costales se necesitan?

\_\_\_\_\_



Colorea la mandala a tu gusto.



Mtro. Jesús González Molina  
gonzalez\_molina79@hotmail.com