

NOMBRE \_\_\_\_\_  
FECHA \_\_\_\_\_

# DIVISIÓN <sup>ABN</sup> con DECIMALES

Descubre quién es el personaje de videojuego y el juego que se esconde tras las divisiones.  
NOTA: Obten decimales en el cociente hasta que el resto sea cero.

$$2.5 \times 100 = 250$$

$$2.5 \times 500 = 1250$$

$$2.5 \times 1000 = 2500$$

		: 2.5
1357	1250	500
107	100	40
7	5	2
2		
R = 2		542




**APOLO**

$$1.8 \times 100 = 180$$

$$1.8 \times 500 = 900$$

$$1.8 \times 1000 = 1800$$

		: 1.8
1702	900	500
802	720	400
82	72	40
10	9	5
1		
R = 1		945



**ATENEA**

$$4.2 \times 100 = 420$$

$$4.2 \times 500 = 2100$$

$$4.2 \times 1000 = 4200$$

		: 4.2
3511	2100	500
1411	1260	300
151	126	30
25	21	5
4		
R = 0		835




**PERSEO**

$$5.4 \times 100 = 540$$

$$5.4 \times 500 = 2700$$

$$5.4 \times 1000 = 5400$$

		: 5.4
3919	2700	500
1219	1080	200
139	108	20
31	27	5
4		
R = 4		725



**HERMES**

$$6.3 \times 100 = 630$$

$$6.3 \times 500 = 3150$$

$$6.3 \times 1000 = 6300$$

		: 6.3
2854	2520	400
334	315	50
19	18.9	3
0.1		
R = 0.1		453




**MORFEO**

$$3.9 \times 100 = 390$$

$$3.9 \times 500 = 1950$$

$$3.9 \times 1000 = 3900$$

		: 3.9
2475	1950	500
525	390	100
135	117	30
18	15.6	4
2.40		
R = 2.40		634



**AFRODITA**

453 → Morfeo    725 → Hermes    835 → Perseo    542 → Apolo  
639 → Dionisio    634 → Afrodita    945 → Atenea    845 → Demeter