



Nombre:

Fecha:






SUMAS ^{ABN}

Resuelve estos problemas. Te hemos puesto una ayuda de un dibujo para que te sea más fácil.

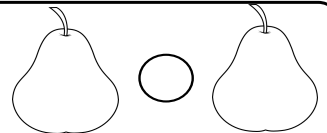
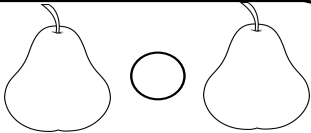
Un pastelero ha preparado en una bandeja 24 pasteles y en otra bandeja 17. ¿Cuántos pasteles hay en la pastelería?

Por la mañana se han vendido 14 pasteles y por la tarde se han vendido 22. ¿Cuántos pasteles se han vendido en total?



Un agricultor ha recolectado de un árbol 34 peras y de otro 42. ¿Cuántas peras ha recogido?

Para hacer mermelada ha utilizado primero 12 peras y después 16 peras más. ¿Cuántas peras ha utilizado?



Caperucita llevaba 2 cestitas. En una llevaba 11 manzanas y en la otra llevaba 15. ¿Cuántas manzanas llevaba?

Cuando llegó a casa de la abuelita, Caperucita se comió 8 y la abuelita se comió 6. ¿Cuántas se comieron entre las dos?

