



Nombre: \_\_\_\_\_


Fecha: \_\_\_\_\_



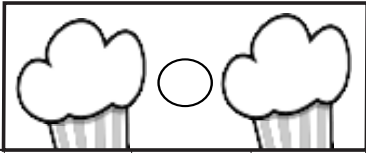
# SUMAS <sup>ABN</sup>

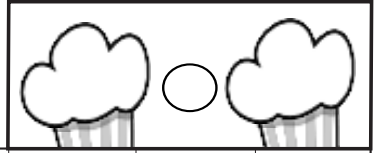
Resuelve estos problemas. Te hemos puesto una ayuda de un dibujo para que te sea más fácil.

Un pastelero ha preparado en una bandeja 24 pasteles y en otra bandeja 17.  
¿Cuántos pasteles hay en la pastelería?




Por la mañana se han vendido 14 pasteles y por la tarde se han vendido 22.  
¿Cuántos pasteles se han vendido en total?

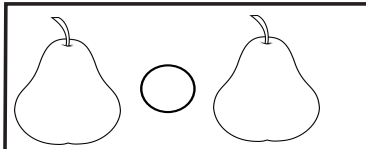


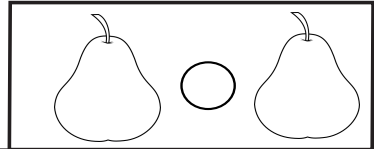




Un agricultor ha recolectado de un árbol 34 peras y de otro 42.  
¿Cuántas peras ha recogido?



Para hacer mermelada ha utilizado primero 12 peras y después 16 peras más.  
¿Cuántas peras ha utilizado?




Caperucita llevaba 2 cestas. En una llevaba 11 manzanas y en la otra llevaba 15.  
¿Cuántas manzanas llevaba?



Cuando llegó a casa de la abuelita, Caperucita se comió 8 y la abuelita se comió 6.  
¿Cuántas se comieron entre las dos?

