

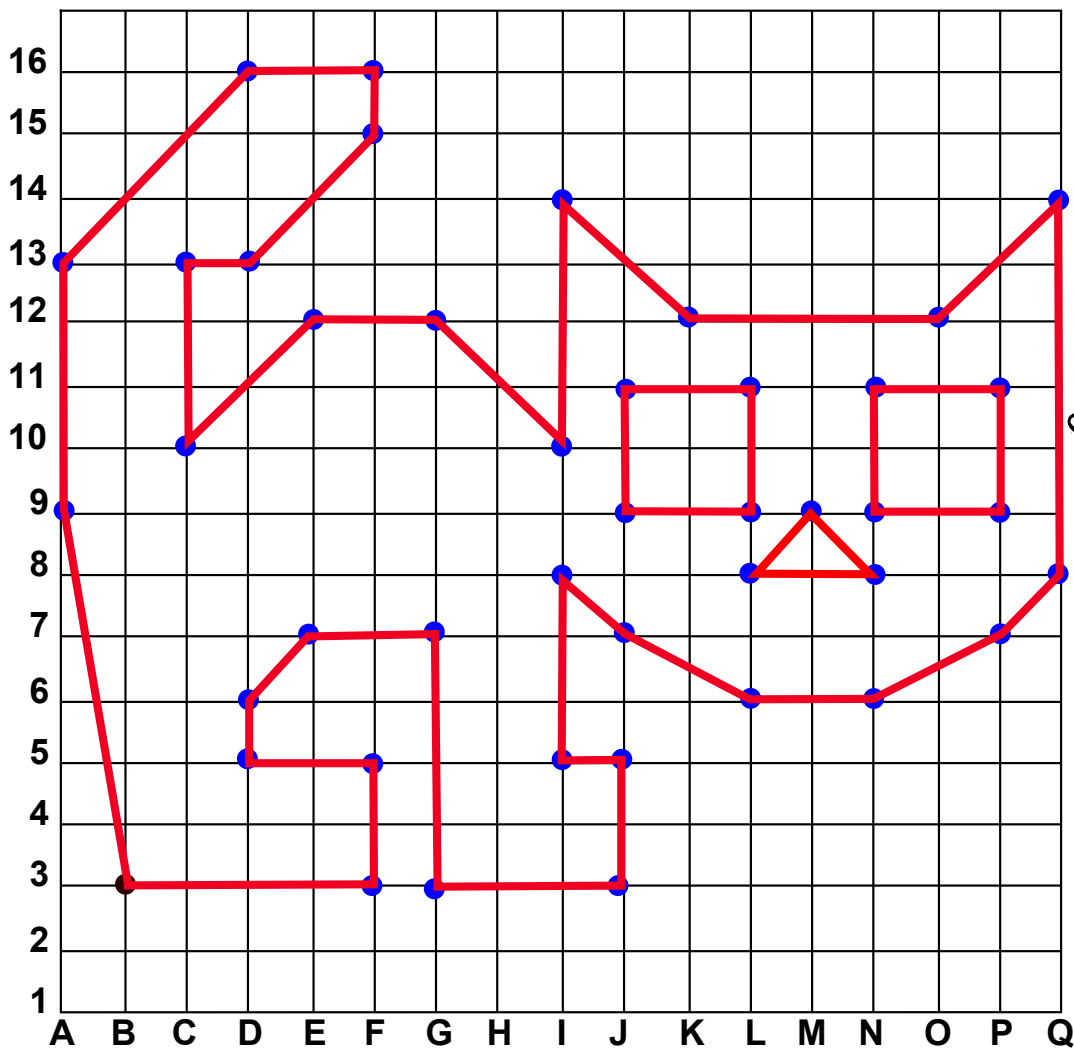


Nombre	Fecha	Grupo

9. Localiza las coordenadas colocando un punto donde se indica y une con líneas, colorea al terminar. Ojo son tres grupos de coordenadas distintas.

L  
O  
C  
A  
L  
I  
Z  
A  
N  
D  
O  
C  
O  
O  
R  
D  
E  
N  
A  
D  
A  
S



**B3 - F3 - F5 - D5 - D6 - E7 - G7 - G3 - J3 - J5 - I5 - I8 - J7 - L6 - N6 - P7 - Q8 - Q14 - O12 - K12 - I14 - I10 - G12 - E12 - C10 - C13 - D13 - F15 - F16 - D16 - A13 - A9**  
une con B3

**J11 - L11 - L9 - J9** une con J11

**N11 - P11 - P9 - N9** une con N11

**M9 - N8 - L8**, une con M9

10. Escribe un problema donde utilices números decimales.

---



---



---



---



---