



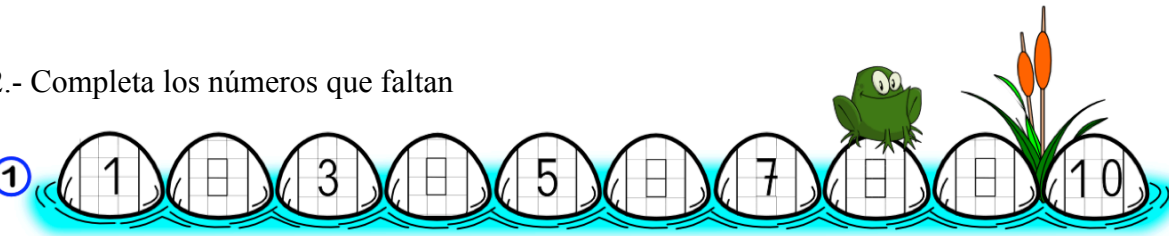


1.- Escribe el número de objeto.

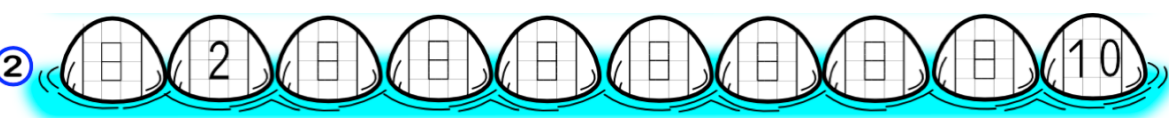
<p>1</p> 	<p>2</p> 
<p>3</p> 	<p>4</p> 

2.- Completa los números que faltan





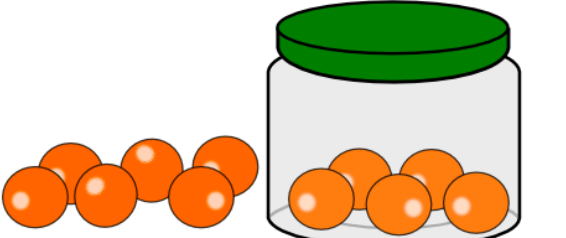

1







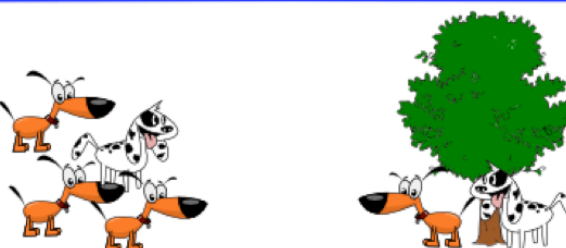

2



3.- Cuántos hay dentro y fuera

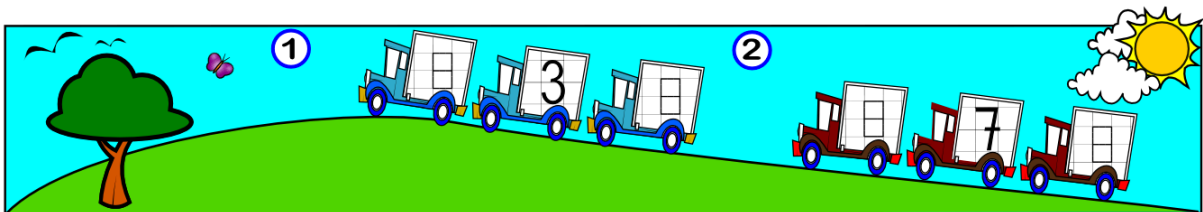
4.- Escribe la cantidad de animales que están cerca o lejos.

5.- Escribe el número que falta para formar el que está arriba.

^a 5	5	5	5
5	4	5	4
4	4	4	4

6.- Escribe el anterior y el posterior.



7.- Suma

$6 + 3 = \square$

$2 + 5 = \square$

$3 + 7 = \square$

$5 + 3 = \square$

8.- Resta

$8 - 2 = \square$

$6 - 2 = \square$

$7 - 3 = \square$

$9 - 4 = \square$

9.- En un plato había cuatro naranjas y han puesto unas pocas naranjas más y ahora hay nueve naranjas. ¿Cuántas naranjas han puesto?

