

EVAL. U.5 MATEMÁTICAS ABN 3º PRIMARIA	FECHA:
NOMBRE:	CURSO:

1.- Escribe el nombre de los siguientes números

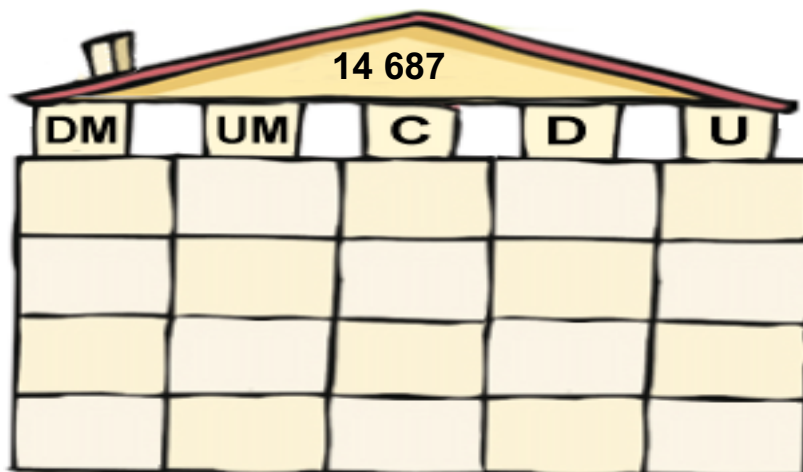
30 000		54 004	
40 000		70 125	

2.- Escribe estos números.

- Cuarenta mil doscientos treinta y uno: _____

- Ochenta y tres mil setecientos: _____

3.- Descompón de cuatro formas distintas. Puedes dejar espacios vacíos.





4.- Escribe como números romanos los siguientes números



45 = _____ 73 = _____ 235 = _____ 2560 = _____



5.- Qué números son los siguientes números romanos



XXIX = _____ LX = _____ CCCXVI = _____ MCDXXI = _____

6.- Completa qué cantidad de dinero es en otros billetes.

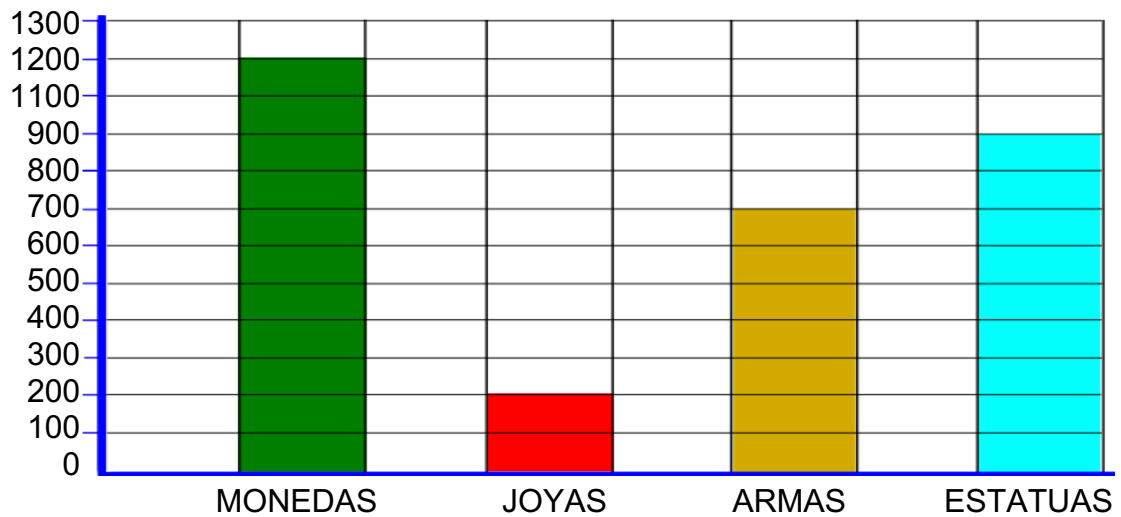
5 de  = de 

4 de  = de 

7 de  = de 

8 de  = de 

7.- Observa la gráfica del número de objetos que hay en un museo y responde



A) ¿Qué objeto es el más abundante? _____ ¿Y el que menos? _____

B) ¿Qué objetos hay más de 400 y menos de 1100? _____

C) ¿Cuántas más estatuas hay que joyas? _____

D) ¿Cuántas menos armas que monedas hay? _____

8.- Piensa y resuelve estos dos problemas.

A) La mamá de María tiene 36 años, y es seis veces mayor que María. ¿Qué edad tiene María? _____

B) Un televisor cuesta 1200 €, que es cuatro veces lo que vale una videoconsola.

¿Cuánto vale la videoconsola? _____

9.- Coloca en la rejilla y calcula:

1605 : 5

348 x 38
