

EVAL. U8 MATEMÁTICAS ABN 3º PRIMARIA	FECHA:
NOMBRE:	CURSO:

1.- Responde:

A) ¿Cuántas monedas de 10 céntimos son?:

1 € son _____ monedas de 10 cts. 10 € son _____ monedas de 10 cts.

B) ¿cuantos céntimos son?:

1 € son _____ céntimos. 10 € son _____ céntimos.

2.- Y ahora responde en órdenes de magnitud:

1 Unidad son _____ décimas, _____ centésimas. _____ milésimas

3.- Escribe cómo se leen estos números decimales.

- 0, 14 _____
- 3, 02 _____
- 8, 25 _____
- 9, 136 _____

4.- Recuerda el orden de unidades y escribe el número como se indica.

CM	DM	UM	C	D	U	DÉCIMA d	CENTÉSIMA c	MILÉSIMA m
-----------	-----------	-----------	----------	----------	----------	--------------------	-----------------------	----------------------

5 C = _____ D y _____ d
8 UM = _____ C y _____ c

3000 c = _____ U y _____ D
700 d = _____ D y _____ C

5.- Calcula los siguientes productos con decimales.

6,23 x 4			
X			

2,86 x 23			
X			

6.- Calcula las siguientes divisiones con decimales.

: 4		
25,8		

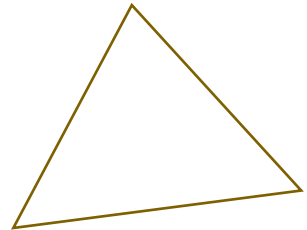
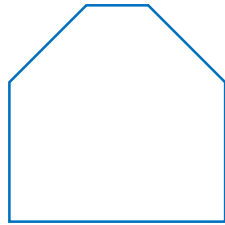
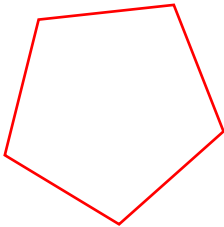
: 6		
22,2		

7.- Divide hasta que el resto sea cero.

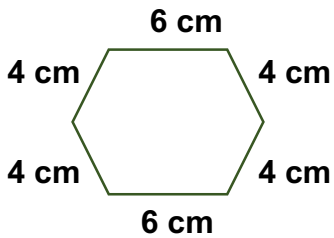
: 5		
21		

: 8		
34		

8.- Escribe el nombre de los siguientes polígonos.



9. - Calcula el perímetro de las siguiente figura.



El perímetro es: _____

10.- Escribe el nombre de los siguientes ángulos según su apertura

