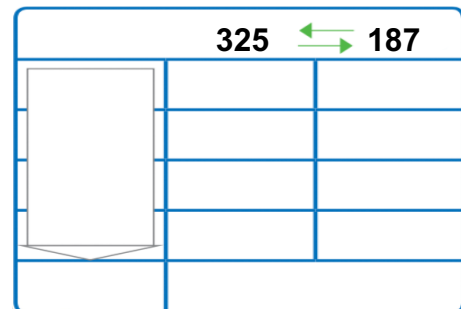
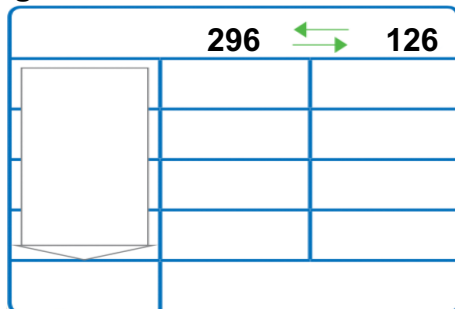
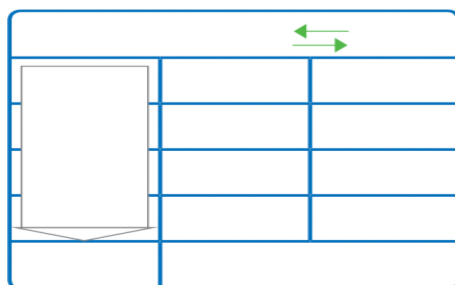


EVAL. U.8 MATEMÁTICAS ABN 2° PRIMARIA	FECHA:
NOMBRE:	CURSO:

1.- Iguala estas cantidades.



2.- Carmen tiene 168 fotografías en un álbum y 426 guardadas en cajas. ¿Cuántas fotografías tendrá que poner en el álbum para tener las mismas que en las cajas. ¿Cuántas tendrán entonces en el álbum y en las cajas?



En el álbum y en las cajas tiene: _____

Ha puesto en el álbum: _____

3.- Completa con el número o palabra que falta.

Con _____ cuartos de kg tenemos un kg completo y con _____ tenemos medio kg.

Dos _____ kg forman un 1 kg

4.- Contesta con las equivalencias en gramos.

A) 1 kg = _____ g

B) 1 cuarto de kg = _____ g

C) Medio kg = _____ g

D) Un kg y Medio = _____ g

5.- Completa con los gramos que faltan para tener un kilogramo.

A) 400 g + _____ g = 1kg

B) 850 g + _____ g = 1kg

C) 240 g + _____ g = 1kg

D) 690 g + _____ g = 1kg

