


Nombre: Fecha:



EUROS Y CÉNTIMOS

Nombre: Fecha:

Pinta de los colores correspondientes.

MONEDAS



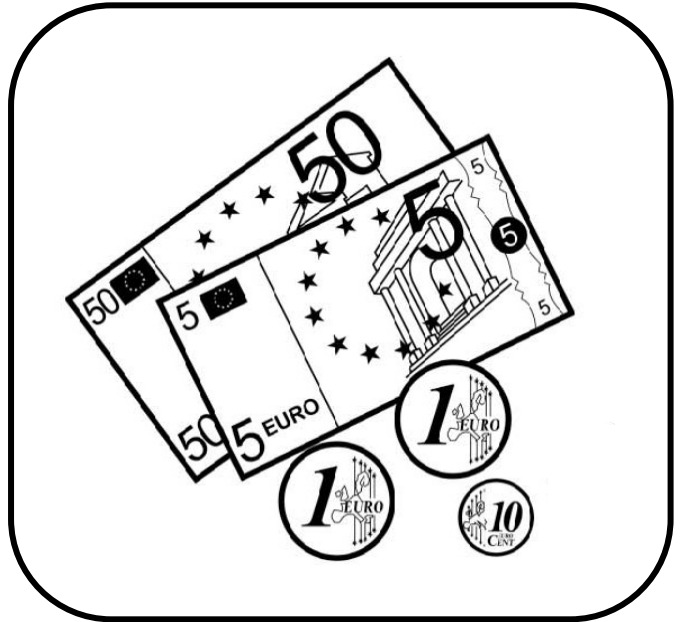
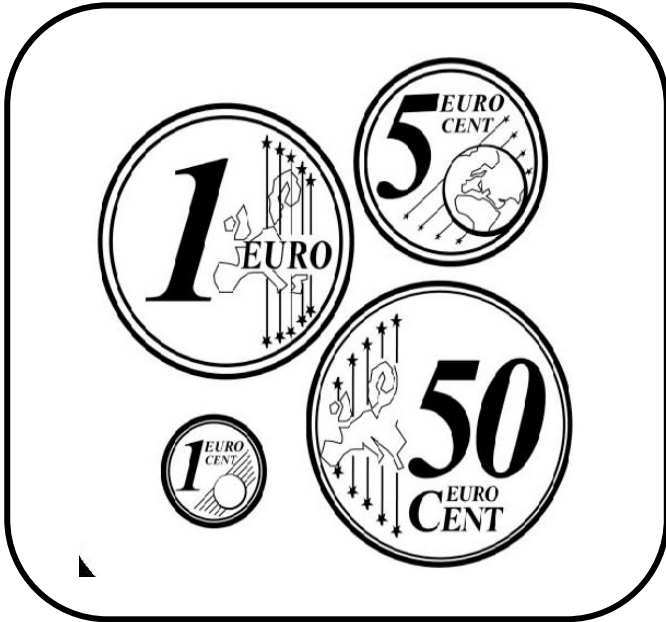
Recursos para el Aula

BILLETES



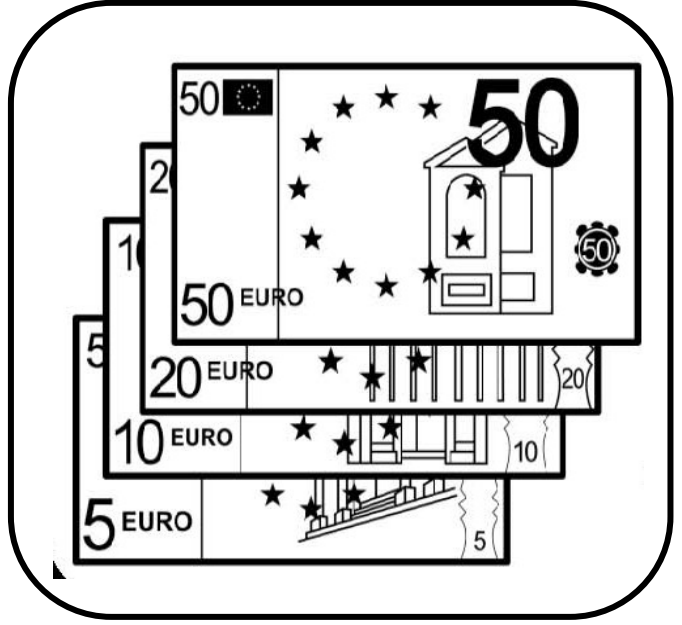
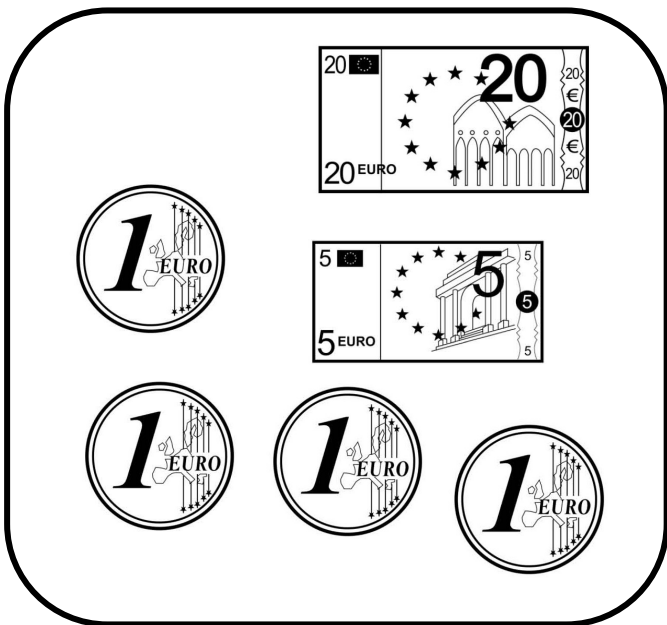
Recursos para el Aula

Cuenta y escribe cuánto dinero hay en cada cuadro.



..... euro y
..... céntimos

..... euros y
..... céntimos



..... euros

..... euros

Nombre: Fecha:

Cuenta y escribe cuánto dinero hay.



Hay euros y
..... céntimos.



Hay e..... y
..... c.....



Hay
.....



Hay
.....



Hay
.....



Hay
.....

Cuenta y escribe cuánto dinero hay.



Hay euros.



Hay e..... y
..... c.....



Hay
.....



Hay
.....



Hay
.....



Hay
.....

Nombre: Fecha:

Descompón el euro de cuatro maneras diferentes con monedas de céntimos.



Dibuja las monedas que necesites para comprar cada producto.



























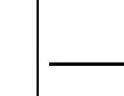






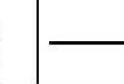






































	5,50 €	
	3,25 €	
	2,40 €	
	2,70 €	
	1,30 €	
	3,05 €	
	1,80 €	

Nombre: Fecha:

Dibuja las monedas que necesites para comprar cada producto.

	4,50 €	
	1,60 €	
	2,20 €	
	3,75 €	
	1,10 €	
	0,50 €	
	3,35 €	






Pinta las monedas que necesites y escribe lo que te sobraría.

NECESITO		TENGO	SOBRA
1	21 cent	      	_____ cent
2	63 cent	      	_____ cent
3	25 cent	     	_____ cent
4	12 cent	      	_____ cent
5	32 cent	      	_____ cent
6	51 cent	     	_____ cent
7	65 cent	     	_____ cent
8	24 cent	      	_____ cent
9	47 cent	      	_____ cent
10	72 cent	     	_____ cent
11	22 cent	     	_____ cent

Nombre: Fecha:


Vas a comprar chuches y pagas con una moneda de 1€. Calcula cuánto valen los chuches y cuánto te devolverán en cada caso.

	VALEN	PAGO CON	ME DEVUELVEN
			
			
			


	VALEN	PAGO CON	ME DEVUELVEN
			
			
			
			

Nombre: Fecha:

Dibuja las monedas que necesites para comprar cada producto de dos maneras diferentes.



46 cent




51 cent




32 cent



67 cent



84 cent



75 cent

Nombre: Fecha:

Cuenta los céntimos que tenemos en cada caso. Después, calcula y dibuja lo que nos falta para tener un euro.

TENGO:



ME FALTA:

TENGO:




ME FALTA:

TENGO:




ME FALTA:

TENGO:



ME FALTA:

TENGO:




ME FALTA:

TENGO:



ME FALTA:

TENGO:



ME FALTA:

TENGO:



ME FALTA: