

**NOMBRE:**

**CURSO:**

**1.- Calcula estos productos de decenas por 8**

|               |  |  |
|---------------|--|--|
| $76 \times 8$ |  |  |
|               |  |  |
|               |  |  |
|               |  |  |

|               |  |  |
|---------------|--|--|
| $98 \times 8$ |  |  |
|               |  |  |
|               |  |  |
|               |  |  |

**2.- Realiza los siguientes productos por centenas.**

|                |  |  |
|----------------|--|--|
| $127 \times 8$ |  |  |
|                |  |  |
|                |  |  |
|                |  |  |

|                |  |  |
|----------------|--|--|
| $108 \times 8$ |  |  |
|                |  |  |
|                |  |  |
|                |  |  |

**3.- Realiza los siguientes "sumirrestas".**

|               |  |  |  |
|---------------|--|--|--|
| $22 + 8 - 14$ |  |  |  |
|               |  |  |  |
|               |  |  |  |
|               |  |  |  |

|                |  |  |  |
|----------------|--|--|--|
| $35 + 47 - 58$ |  |  |  |
|                |  |  |  |
|                |  |  |  |
|                |  |  |  |

**4.- Realiza los siguientes doble restas.**

|                |  |  |  |
|----------------|--|--|--|
| $45 - 13 - 22$ |  |  |  |
|                |  |  |  |
|                |  |  |  |
|                |  |  |  |

|                |  |  |  |
|----------------|--|--|--|
| $79 - 35 - 28$ |  |  |  |
|                |  |  |  |
|                |  |  |  |
|                |  |  |  |

5.- Si Pedro ha estado en el parque estos dos ratos. ¿Cuántos ha estado en total?




|                 |  |  |
|-----------------|--|--|
| 01: 42 + 01: 33 |  |  |
|                 |  |  |
|                 |  |  |
|                 |  |  |

Ha estado: \_\_\_\_\_

6.- Completa:

2 medios litros son \_\_\_\_\_ litro y un litro también son \_\_\_\_\_ cuartos de litro

7.- Averigua la capacidad de cada grupo de recipientes.

|                |  |                                |   |
|----------------|--|--------------------------------|---|
| 1l             |   | 2 botellas, 1 jarras y 2 vasos | → |
|                |  | 1 botellas, 2 jarras y 2 vasos | → |
| $\frac{1}{2}l$ |   | 2 botellas, 2 jarras y 2 vasos | → |
| $\frac{1}{4}l$ |  | 1 botellas, 1 jarras y 4 vasos | → |

8.- Con 20 litros ¿cuántos vasos de cuarto de litro se pueden llenar?

Respuesta: \_\_\_\_\_

9.- Reparte estas galletas entre estos siete niños y niñas.

|         |                |                |                 |                 |
|---------|----------------|----------------|-----------------|-----------------|
| REPARTO | 21<br>GALLETAS | 28<br>GALLETAS | 210<br>GALLETAS | 280<br>GALLETAS |
| 7 NIÑOS |                |                |                 |                 |

10.- Si mi película favorita empieza a las 16:25 y dura 1 hora y 42 minutos. ¿A qué hora acaba?

|  |  |  |
|--|--|--|
|  |  |  |
|  |  |  |
|  |  |  |
|  |  |  |

Acabará a las: \_\_\_\_\_