




Nombre: _____

Fecha: _____

PROBLEMAS


1- Juan estaba haciendo una torre con cuarenta y cinco cubos. Maria le quita veintiocho cubos. ¿Cuántos cubos tiene la torre?



Datos:

Juan hacia una torre con _____

Maria le quita _____



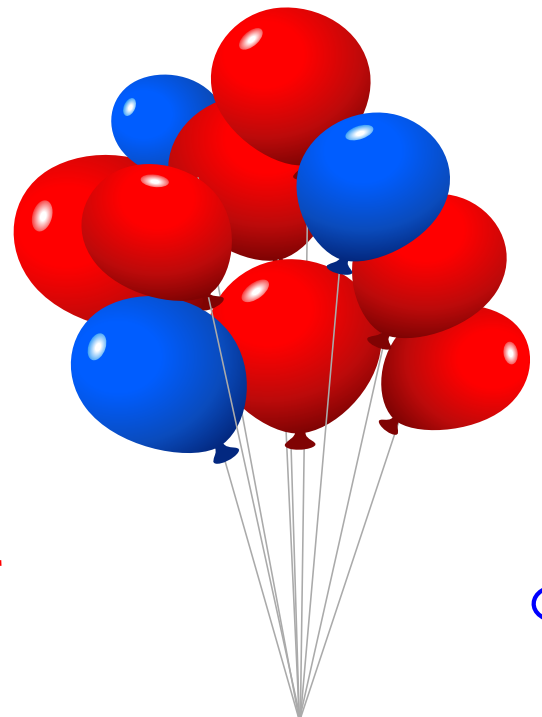

Respuestas _____

2. - Martina tiene veintiocho globos rojos y veinticuatro globos azules. ¿Cuántos globos tiene Martina en total?

Datos:

Martina tiene _____ globos rojos

y _____ azules.



Respuestas _____

