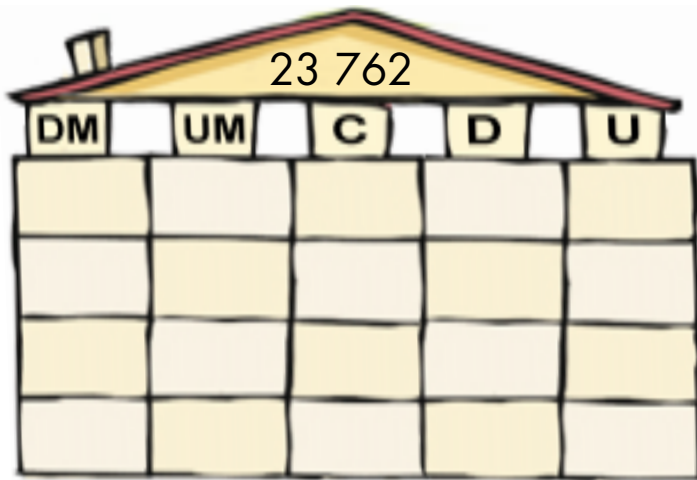



1 Descompón de cuatro formas distintas.



2 Escribe el número que piensas cada uno.



3 Calcula el doble y mitad de estas cantidades

a) Doble de 240 = _____ b) Mitad de 240 = _____

c) Doble de 130 = _____ d) Mitad de 130 = _____

4 Resuelve esta sumirresta y doble resta.

67 + 32 - 48			

124 - 89 - 45			

5 En una frutería han recibido 235 kilos de frutas. Por la mañana vendieron 73 kilos. ¿Cuántos kg tienen que vender más para que quede la misma cantidad en la frutería que vendida?



235 ↔ 73		

6 Sabiendo que 74×6 es 444 calcula estos productos con cálculo mental.

a) $740 \times 6 =$ _____ b) $7,4 \times 6 =$ _____ c) $740 \times 3 =$ _____ d) $7,4 \times 3 =$ _____

7 Calcula estos productos

$$23,7 \times 6$$


$$4,6 \times 52$$

8 Calcula estas divisiones

: 5		
4		

: 4		
81,2		

9 He estado llegando a casa a las 17:23 y el viaje ha durado 2:47 minutos. ¿A qué hora salimos de viaje?



___ h ___ min + ___ h ___ min		

Salimos a las:



10 Según el valor de estas letras en dinero verígua:

a) $2C + B =$

b) $B + 2C + D =$

c) $D - 3B =$

d) $2B + 2C +$ $= 65€$