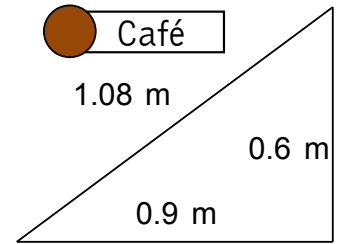
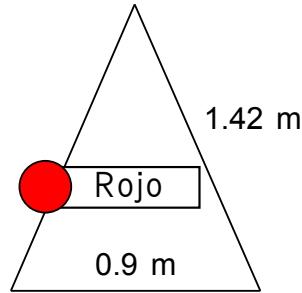
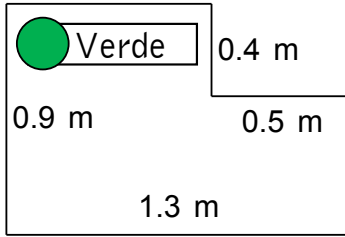


PERIMETROS DE FIGURAS PLANAS 2



Con las medidas dadas obtén el perímetro de cada figura, busca los resultados para que descubras el dibujo oculto en la cuadrícula.

0.76	0.76	0.76	0.76	0.76	0.76	0.76	0.76	0.76	0.76	0.76	0.76	0.76	0.76	0.76	0.76	0.76	0.76	3.8
0.76	0.76	0.76	0.76	0.76	0.76	0.76	0.76	2.8	3.8	3.8	2.8	2.8	2.8	2.8	0.76	0.76	0.76	3.8
0.76	0.76	0.76	0.76	0.76	0.76	0.76	2.8	2.58	2.8	2.8	4.4	4.4	4.4	4.4	2.8	0.76	0.76	3.8
0.76	0.76	0.76	0.76	0.76	0.76	0.76	2.8	2.58	2.58	2.8	4.4	2.8	2.8	2.8	2.8	0.76	0.76	3.8
0.76	0.76	0.76	0.76	2.8	2.8	2.8	3.8	2.8	2.58	2.8	2.8	3.74	3.74	3.74	2.8	0.76	0.76	3.8
0.76	0.76	0.76	2.8	3.74	3.74	3.74	2.8	2.8	2.58	2.8	3.74	3.74	3.74	3.74	3.74	2.8	0.76	3.8
0.76	0.76	2.8	3.74	3.74	3.74	3.74	3.74	2.8	2.8	3.74	3.74	3.74	3.74	3.74	3.74	2.8	0.76	3.8
0.76	2.8	3.74	3.74	3.74	3.74	3.74	3.74	3.74	3.74	3.74	3.74	3.74	3.74	3.74	3.74	3.74	2.8	0.76
0.76	2.8	3.74	3.74	3.74	3.74	3.74	3.74	3.74	3.74	3.74	3.74	3.74	3.74	3.74	3.74	3.74	2.8	0.76
0.76	2.8	3.74	3.74	3.74	3.74	3.74	3.74	3.74	3.74	3.74	3.74	3.74	3.74	3.74	3.74	2.8	0.76	0.76
0.76	2.8	3.74	3.74	3.74	3.74	3.74	3.74	3.74	3.74	3.74	3.74	3.74	3.74	3.74	3.74	2.8	0.76	0.76
0.76	0.76	2.8	3.74	3.74	3.74	3.74	3.74	3.74	3.74	3.74	3.74	3.74	3.74	3.74	3.74	2.8	0.76	0.76
0.76	0.76	0.76	2.8	3.74	3.74	3.74	3.74	3.74	3.74	3.74	3.74	3.74	3.74	3.74	2.8	0.76	0.76	0.76
4.4	4.4	4.4	2.8	3.74	3.74	3.74	3.74	3.74	3.74	3.74	3.74	3.74	3.74	2.8	4.4	4.4	4.4	4.4
4.4	4.4	4.4	4.4	2.8	2.8	3.74	3.74	2.8	2.8	3.74	3.74	2.8	4.4	4.4	4.4	4.4	4.4	4.4
4.4	4.4	4.4	4.4	4.4	4.4	2.8	2.8	4.4	4.4	2.8	2.8	4.4	4.4	4.4	4.4	4.4	4.4	4.4
4.4	4.4	4.4	4.4	4.4	4.4	4.4	4.4	4.4	4.4	4.4	4.4	4.4	4.4	4.4	4.4	4.4	4.4	4.4
4.4	4.4	4.4	4.4	4.4	4.4	4.4	4.4	4.4	4.4	4.4	4.4	4.4	4.4	4.4	4.4	4.4	4.4	4.4
4.4	4.4	4.4	4.4	4.4	4.4	4.4	4.4	4.4	4.4	4.4	4.4	4.4	4.4	4.4	4.4	4.4	4.4	4.4

