

Nombre: _____

3º PRIMARIA

JUNIO 2019

SÁBADO

DOMINGO

LUNES


MARTES


MIÉRCOLES

JUEVES

VIERNES

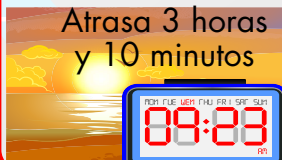
3  Haz la casita con 4 descomposiciones

4 Día Int. de las niños víctimas de agresión  ¿Cuál es el doble? 218

5 Día mundial del medio ambiente  Añade 41C 9D 26U 221

6 Día mundial de los trasplantados  ¿Cuál es su amigo del 1000? 201


7 ¿Cuál sería su producto por 8, 80, 800 y 8000? 6

8 Día mundial de los océanos  Atrasa 3 horas y 10 minutos 08:23

9 Inventa un problema de igualación con estos datos. 27 64


10 ¿Cómo se lee este número si fuese dinero? 28.15

11 Inventa un problema de sumirresta con éstos datos. 764 182 351


12 Día mundial contra el trabajo infantil  Continúa la serie: 46, 40, 34, ... 1

13 Inventa un problema de restar con estos datos. 815 321

14 Día mundial del donante de sangre  Resta la cantidad de mañana 427

15 Día mundial abuso y maltrato en la vejez  ¿Cuál es su triple? 192


16 Calcula en escalera ascendente hasta llegar a la cifra de ayer. 59

17 Día mundial contra desertificación y la sequía  ¿Cuál es su mitad? 746

18 Escribe 5 números con estas cifras. 9 7 5

19 Escribe el minuendo y el sustraendo para que sea la solución. 18


20 Día mundial del refugiado  Sumale 76 y 44 43

21 Día europeo de la música  Calcula mentalmente 689 + 132

22 Inventa un problema de dividir en el que sea la solución. 15


23 A qué número llegamos 489 

24 Inventa 4 operaciones diferentes en las que aparezca este número. 85

25 Día de la gente del mar  ¿Cuál es su amigo del 1000? 967

26 ¿Cuántos litros hay en cuatro botes de 60 cl? 27

27 Indica el número de centenas y la cifra de las decenas 8124

28 Día mundial del árbol  ¿Cuántos 1/4 de kilo hay en esa cantidad? 5kg

29 Escribe la centena anterior y posterior 396

30 Día internacional de los asteroides  ¿Qué número es? MMCCXXVII