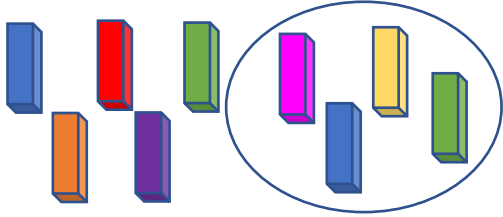


## Resolución de problemas: CM5

Jugando a la Jenga Emma ha quitado 9 maderitas.



Ha quitado 4 maderitas más que Luca.

Primero piensa, ¿quién ha quitado más maderitas? \_\_\_\_\_

Si Emma ha quitado 4 más, Luca ha quitado \_\_\_\_\_



¿Cuántas maderitas ha quitado Luca?

### Comprendo el enunciado.

1. Completa la tabla siguiente y aprende lo que implica el concepto "más que" en este tipo de problemas.

Maderitas de Emma	Emma ha quitado ...	Por tanto, Luca ha quitado ...	Maderitas de Luca
15	4 más que Luca	4 menos	$15 - 4 = 11$
27	9 más que Luca		
51	23 más que Luca		
33	17 más que Luca		
49	15 más que Luca		

### Iníciate.

2. María ha ahorrado 34€ para poder comprarse su juego de mesa favorito. Ha ahorrado 12€ más de lo que realmente cuesta el juego. ¿Cuánto dinero cuesta el juego?

Ha ahorrado



12€ más de lo que cuesta el juego.

Opera y resuelve:  ○  =

Solución: .....

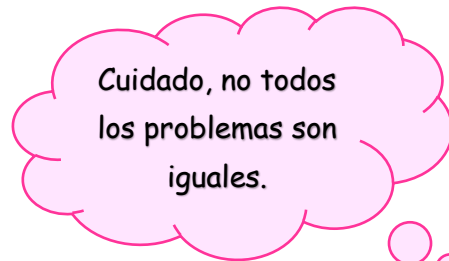
**Avanza un paso más.**

3. Se llevan disputados 7 partidos de la liga escolar de baloncesto. El equipo de los Puma lleva anotados ya 213 puntos en total, 137 más que el equipo de los Patos. ¿Cuántos puntos lleva anotados el equipo de los Patos?



Solución: .....

4. En la biblioteca de nuestro colegio hay 1348 libros infantiles. Mientras que en la biblioteca del pueblo hay 2078 libros más. ¿Cuántos libros infantiles hay en la biblioteca del pueblo?



Solución: .....

5. Carlota ha dado hoy 5 vueltas completas al parque con sus nuevos patines. Ha recorrido un total de 715,5 metros. 13,72 dam más que su amigo Diego. ¿Cuántos metros ha recorrido Diego?



Solución: .....

**Inventa, crea y razona.**

Inventa un problema similar al anterior cuyo resultado sea **23 cromos tiene Sonia**.  
 Selecciona los datos que necesites de los que te ofrecemos a continuación.

34

57

8



---



---



---

## Resolución de problemas: CM6

Jugando a las damas Emma ha capturado 6 fichas.



Ha capturado 5 fichas menos que Luca.

Primero piensa, ¿quién ha capturado menos fichas? \_\_\_\_\_

Si Emma ha capturado 5 menos, Luca ha capturado \_\_\_\_\_



¿Cuántas fichas ha capturado Luca?

### Comprendo el enunciado.

1. Completa la tabla siguiente y aprende lo que implica el concepto "menos que" en este tipo de problemas.

Fichas Emma	Emma ha capturado...	Por tanto, Luca ha capturado ...	Fichas Luca
11	4 menos que Luca	4 más	$11 + 4 =$
7	5 menos que Luca		
8	6 menos que Luca		
9	7 menos que Luca		
12	8 menos que Luca		

### Iníciate.

2. Sergio ha hecho un puzle de 20 piezas. Su puzle tiene 76 piezas menos que el puzle que ha hecho su hermana Aitana. ¿Cuántas piezas tiene el puzle que ha hecho su hermana Aitana?

Piezas del puzle de Sergio



76 piezas menos que el puzle de Aitana

Opera y resuelve:  ○  =

Solución: .....


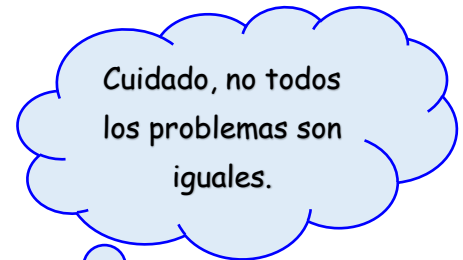
**Avanza un paso más.**

3. En el centro comercial he visto 2 ofertas que me han llamado mucho la atención. Una bicicleta cuesta 346€. Cuesta 185€ menos que un televisor. ¿Cuánto dinero cuesta el televisor?



Solución: .....

4. Al partido de balonmano de esta semana han acudido 2785 espectadores. La semana pasada fueron al partido 1259 personas menos que esta. ¿Cuántos espectadores estuvieron viendo el partido la semana pasada?



Solución: .....

5. Javier ha comprado tres bolsas de patatas hoy. Una bolsa pesa 1kg 250g. Pesa 350g menos que la bolsa de manzanas que ha comprado. ¿Cuánto pesa la bolsa de manzanas que ha comprado Javier?



Solución: .....

**Inventa, crea y razona.**

Inventa un problema similar al anterior utilizando todos los datos que te ofrecemos a continuación, aunque alguno de ellos no sea útil para resolver el problema.

89

5

77



---



---



---