


Nombre del Alumno: _____


RESPUESTAS

5°

$$1 + 2 (+) 3 + 4 + 5 (-) 6 = 9$$



$$1 + 2 + 3 (+) 4 (-) 5 + 6 = 11$$




$$1 + 2 + 3 (-) 4 + 5 (+) 6 = 12$$



$$1 (+) 2 + 3 (-) 4 + 5 + 6 = 13$$



$$1 + 2 (-) 3 + 4 (+) 5 + 6 = 15$$



Instrucciones:

Ejercicio 1: Inserta el signo dentro del paréntesis (+) o (-) tendrás que sumar y restar los números, los cuales tendrán que coincidir con el resultado.

Ejercicio 2: colorea solo los 2 equipos que tengan la misma secuencia de imágenes.

Diviertete sumando, ^{5°} restando y Coloreando.

Evaluación.