



+ - 1 2 3 4 5 6 7 8 9 SUMAS Y RESTAS 9 8 7 6 5 4 3 2 1 - +

Nombre del Alumno: _____

$$1 + 2 () 3 + 4 + 5 () 6 = 9$$



$$1 + 2 + 3 () 4 () 5 + 6 = 11$$




$$1 + 2 + 3 () 4 + 5 () 6 = 12$$



$$1 () 2 + 3 () 4 + 5 + 6 = 13$$



$$1 + 2 () 3 + 4 () 5 + 6 = 15$$



Instrucciones:

Ejercicio 1: Inserta el signo dentro del paréntesis (+) o (-) tendrás que sumar y restar los números, los cuales tendrán que coincidir con el resultado.

Ejercicio 2: colorea solo los 2 equipos que tengan la misma secuencia de imágenes.

Diviértete sumando, ^{5°} restando y Coloreando.

Evaluación.